

বাংলাদেশ ও বিশ্বপরিচয়

তৃতীয় শ্রেণি



জাতীয় শিক্ষাক্রম ও পাঠ্যপুস্তক বোর্ড, বাংলাদেশ

জাতীয় শিক্ষাক্রম ও পাঠ্যপুস্তক বোর্ড কর্তৃক ২০২৪ শিক্ষাবর্ষ থেকে
তৃতীয় শ্রেণির পাঠ্যপুস্তকরূপে নির্ধারিত

বাংলাদেশ ও বিশ্বপরিচয়

তৃতীয় শ্রেণি



জাতীয় শিক্ষাক্রম ও পাঠ্যপুস্তক বোর্ড, বাংলাদেশ

জাতীয় শিক্ষাক্রম ও পাঠ্যপুস্তক বোর্ড
৬৯-৭০, মতিঝিল বাণিজ্যিক এলাকা, ঢাকা-১০০০
কর্তৃক প্রকাশিত

প্রকাশক কর্তৃক সর্বস্বত্ব সংরক্ষিত

প্রথম সংস্করণ, সংকলন ও রচনা

ড. মো. ফারুক হোসেন
মোঃ জহুরুল হক
মো. কামরুজ্জামান
সরোজ কুমার সাহা
সুমন চক্রবর্তী
গাজী মোহাম্মদ নাজমুল হোসেন

শিল্প নির্দেশনা

হাশেম খান

ছবি ও অলংকরণ

মোঃ মোতিউল ইসলাম মিয়া
মোঃ কাওসার শিকদার

প্রথম মুদ্রণ : অক্টোবর ২০২৩

পরিমার্জিত সংস্করণ : অক্টোবর ২০২৪

ডিজাইন

জাতীয় শিক্ষাক্রম ও পাঠ্যপুস্তক বোর্ড

প্রাথমিক ও গণশিক্ষা মন্ত্রণালয়ের অধীন চতুর্থ প্রাথমিক শিক্ষা উন্নয়ন কর্মসূচির
আওতায় গণপ্রজাতন্ত্রী বাংলাদেশ সরকার কর্তৃক বিনামূল্যে বিতরণের জন্য

মুদ্রণে :

প্রসঙ্গকথা

প্রাথমিক স্তর শিক্ষার ভিত্তিভূমি। প্রাথমিক শিক্ষা সুনির্দিষ্ট লক্ষ্যমুখী ও পরিকল্পিত না হলে গোটা শিক্ষাব্যবস্থাই দুর্বল হয়ে পড়ে। এই বিষয়টি বিবেচনায় নিয়ে ২০১০ সালের শিক্ষানীতিতে প্রাথমিক স্তরকে বিশেষ গুরুত্ব দেওয়া হয়েছে। বিশ্বের উন্নত দেশসমূহের সাথে সংগতি রেখে প্রাথমিক স্তরের পরিসর বৃদ্ধি এবং অতর্ভুক্তিমূলক করার ওপর জোর দেওয়া হয়েছে। সামাজিক ও অর্থনৈতিক স্তর এবং ধর্ম-বর্ণ কিংবা লৈঙ্গিক পরিচয় কোনো শিশুর শিক্ষাগ্রহণের পথে যাতে বাধা না হয়ে দাঁড়ায় এ বিষয়েও বিশেষ দৃষ্টি রাখা হয়েছে।

প্রাথমিক শিক্ষাকে যুগোপযোগী করার লক্ষ্যে জাতীয় শিক্ষাক্রম ও পাঠ্যপুস্তক বোর্ড (এনসিটিবি) একটি সমন্বিত শিক্ষাক্রম গ্রহণ করেছে। এই শিক্ষাক্রমে একদিকে শিক্ষাবিজ্ঞান ও উন্নতবিশ্বের শিক্ষাক্রম অনুসরণ করা হয়েছে, অন্যদিকে বাংলাদেশের চিরায়ত শিখন-শেখানো মূল্যবোধকেও গ্রহণ করা হয়েছে। এর মাধ্যমে শিক্ষাকে অধিকতর জীবনমুখী ও ফলপ্রসূ করার প্রয়াস বাস্তব ভিত্তি পেয়েছে। বিশ্বায়নের বাস্তবতায় শিশুদের মনোজাগতিক অবস্থাকেও শিক্ষাক্রমে বিশেষভাবে বিবেচনায় রাখা হয়েছে।

শিক্ষাক্রম বাস্তবায়নের সবচেয়ে গুরুত্বপূর্ণ উপাদান-উপকরণ হলো পাঠ্যপুস্তক। এই কথাটি মাথায় রেখে এনসিটিবি প্রাথমিক স্তরসহ প্রতিটি স্তর ও শ্রেণির পাঠ্যপুস্তক প্রণয়নে সবসময় সচেত্ন রয়েছে। প্রতিটি পুস্তক রচনা ও সম্পাদনার ক্ষেত্রে শিক্ষাক্রমের লক্ষ্য ও উদ্দেশ্যকে প্রাধান্য দেওয়া হয়েছে। শিশুমনের বিচিত্র কৌতুহল এবং ধারণক্ষমতা সম্পর্কে রাখা হয়েছে সজাগ দৃষ্টি। শিখন-শেখানো কার্যক্রম যাতে একমুখী ও ক্লাস্তিকর না হয়ে আনন্দের অনুষ্ণ হয়ে ওঠে সেদিকটি শিক্ষাক্রম এবং পাঠ্যপুস্তক প্রণয়নে বিশেষ গুরুত্ব দেওয়া হয়েছে। আশা করা যায়, প্রতিটি বই শিশুদের সুখম মনোদৈহিক বিকাশের সহায়ক হবে। একই সাথে তাদের কাঙ্ক্ষিত দক্ষতা, অভিযোজন সক্ষমতা, দেশপ্রেম ও নৈতিক মূল্যবোধ অর্জনের পথকেও সুগম করবে।

শিক্ষার্থীরা 'বাংলাদেশ ও বিশ্বপরিচয়' বিষয়ের পাঠ্যপুস্তক বর্তমান শ্রেণিতেই প্রথমবার পাচ্ছে। প্রথম ও দ্বিতীয় শ্রেণিতে এ বিষয়ে শুধু শিক্ষক সহায়িকার মাধ্যমে পাঠদানের ব্যবস্থা রয়েছে। পাঠ্যপুস্তকটি রচনায় এ বিষয়টি বিশেষভাবে বিবেচনা করা হয়েছে।

বইটি রচনা, সম্পাদনা ও পরিমার্জনে যেসব বিশেষজ্ঞ ও শিক্ষক নিবিড়ভাবে কাজ করেছেন তাঁদের বিশেষভাবে কৃতজ্ঞতা জানাই। কৃতজ্ঞতা জানাই তাঁদের প্রতিও যীরা অলংকরণের মাধ্যমে বইটিকে শিশুদের জন্য চিত্তাকর্ষক করে তুলেছেন। ২০২৪ সালের পরিবর্তিত পরিস্থিতিতে প্রয়োজনের নিরিখে পাঠ্যপুস্তকসমূহ পরিমার্জন করা হয়েছে। সময় স্বল্পতার কারণে কিছু ভুলত্রুটি থেকে যেতে পারে। সুখিজনের কাছ থেকে যৌক্তিক পরামর্শ ও নির্দেশনা পেলে সেগুলো গুরুত্বের সাথে বিবেচনায় নেওয়া হবে।

পরিশেষে বইটি যাদের জন্যে, সেই কোমলমতি শিক্ষার্থীদের সার্বিক কল্যাণ কামনা করছি।

অক্টোবর ২০২৪

প্রফেসর ড. এ কে এম রিয়াজুল হাসান
চেয়ারম্যান
জাতীয় শিক্ষাক্রম ও পাঠ্যপুস্তক বোর্ড, বাংলাদেশ

সূচিপত্র

অধ্যায়ের নাম	পৃষ্ঠা নং
১। আমাদের পরিবেশ	১
২। আমরা সবাই মানুষ	১২
৩। আমাদের চার নেতা	২১
৪। আমাদের ইতিহাস	২৬
৫। আমাদের সংস্কৃতি	৪০
৬। মহাদেশ ও মহাসাগর	৪৭
৭। পরিবার ও বিদ্যালয়ে শিশুর ভূমিকা	৫৮
৮। শিশু অধিকার ও নিরাপত্তা	৬৭
৯। নৈতিক ও মানবিক গুণ	৭৭
১০। আমাদের দেশ	৮৩
১১। বিভিন্ন পেশা	৯৫
১২। টাকার ব্যবহার	১০৫
১৩। জরুরি পরিস্থিতি মোকাবিলা	১১০
• শব্দভাণ্ডার	১১৯

অধ্যায় : ১ আমাদের পরিবেশ

১

প্রাকৃতিক ও সামাজিক পরিবেশের বৈচিত্র্য



ক) ছবিটি পর্যবেক্ষণ করে প্রাকৃতিক ও সামাজিক উপাদান চিহ্নিত করি এবং নিচের ছকে তালিকা তৈরি করি—

প্রাকৃতিক পরিবেশের উপাদান	সামাজিক পরিবেশের উপাদান
সূর্য	ঘর-বাড়ি

প্রাকৃতিক পরিবেশের উপাদানগুলোর মধ্যে বৈচিত্র্য রয়েছে। কোথাও রয়েছে উঁচু-নিচু পাহাড়-পর্বত, কোথাও সাগর-মহাসাগর। কোথাও আবার নদ-নদী, খাল-বিল, হাওড়-বাঁওড়, নিচু এলাকা ইত্যাদি।

পোকা-মাকড় থেকে শুরু করে হাতির মতো বিশাল প্রাণী এবং বিভিন্ন ধরনের উদ্ভিদ নিয়ে জীবজগৎ। কোনো অঞ্চল বৃষ্টিপ্রবণ, আবার কোনো অঞ্চল শুষ্ক মরুভূমি। কোনো অঞ্চলের আবহাওয়া গরম, আবার কোথাও শীতল। বাংলাদেশে গ্রীষ্মকালে গরম ও শীতকালে ঠান্ডা অনুভূত হয়। এদেশে বর্ষাকালে প্রচুর বৃষ্টিপাত হয়। অতি বৃষ্টির কারণে কখনো কখনো বন্যা হয়। আবার অনাবৃষ্টির কারণে খরাও হয়। এভাবেই গড়ে উঠেছে বৈচিত্র্যপূর্ণ প্রাকৃতিক পরিবেশ।

সামাজিক পরিবেশের বিভিন্ন উপাদানের মধ্যেও বৈচিত্র্য রয়েছে। বিভিন্ন ধর্মের মানুষের বিভিন্ন রকম উৎসব। যেমন ঈদ, পূজা, বুদ্ধপূর্ণিমা, বড়দিন ইত্যাদি। মানুষের প্রয়োজনে গড়ে উঠেছে স্কুল, মাদ্রাসা, কলেজের মতো বিভিন্ন ধরনের শিক্ষাপ্রতিষ্ঠান। আমাদের সমাজে রয়েছে কৃষক, মৎস্যজীবী, ব্যবসায়ী, রিকশাচালক, শিক্ষক, ডাক্তার ও শ্রমিকসহ বিভিন্ন পেশার মানুষ। যাতায়াতের জন্য আমরা ব্যবহার করি বিভিন্ন ধরনের যানবাহন, যেমন- রিকশা, গাড়ি, ট্রেন, লঞ্চ, বিমান ইত্যাদি। একেক অঞ্চলের মানুষের ঘরবাড়ি, ভাষা, খাদ্যাভ্যাস একেক রকম। গ্রাম ও শহরের ঘরবাড়ি, রাস্তাঘাট, বাজার, জীবনযাত্রা ইত্যাদির মধ্যে রয়েছে ভিন্নতা। এদেশে বেশির ভাগ অফিস-আদালত ও কলকারখানা শহরে অবস্থিত। আবার কৃষি খামারগুলো গ্রামে অবস্থিত। এভাবে দেশের বিভিন্ন অঞ্চলের প্রাকৃতিক ও সামাজিক পরিবেশে ভিন্নতা রয়েছে।

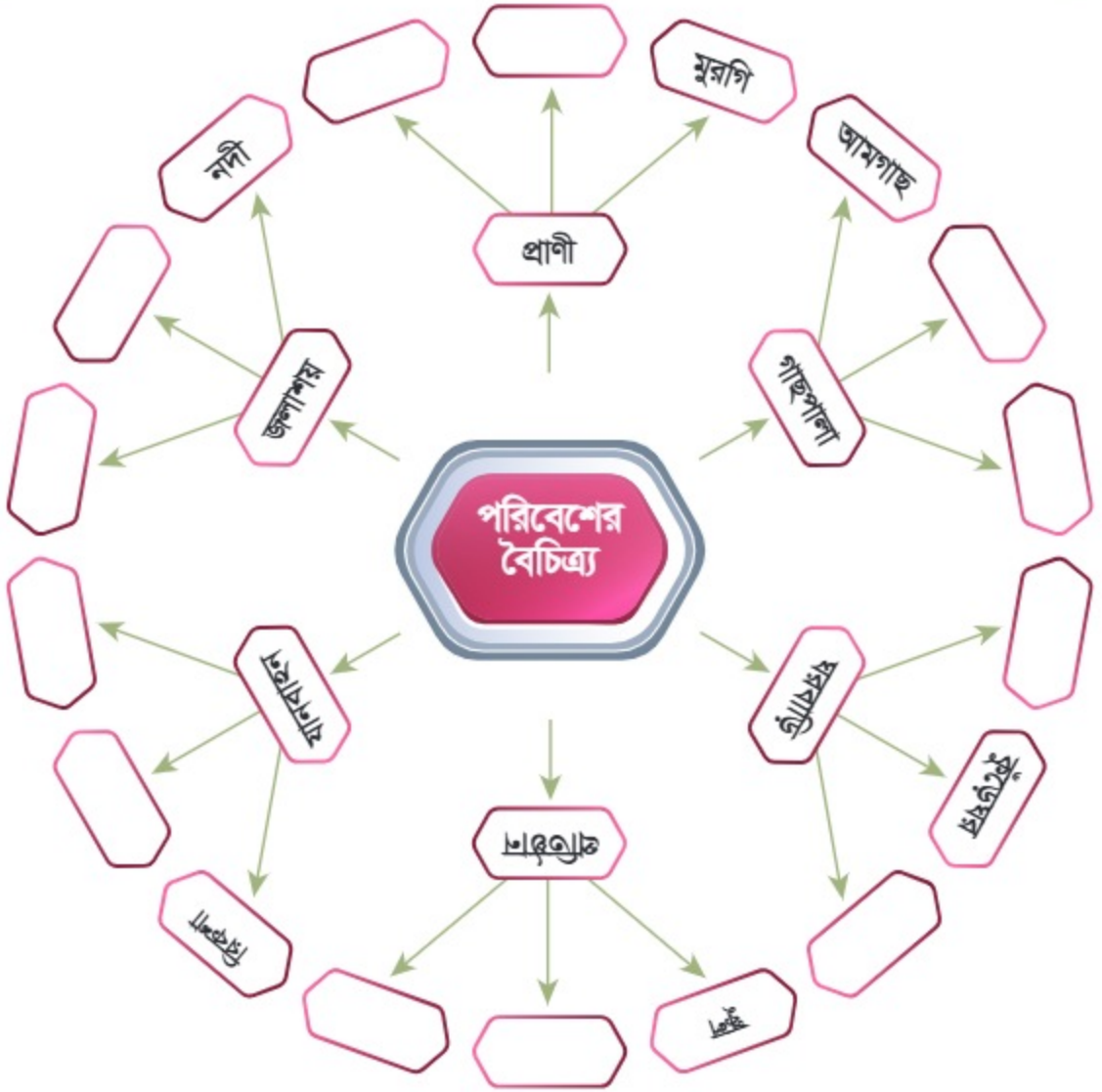
খ) বিষয়বস্তু পড়ি এবং প্রাকৃতিক ও সামাজিক পরিবেশের বৈচিত্র্য নিচের ছকগুলোতে লিখি-

প্রাকৃতিক পরিবেশের বৈচিত্র্য	
ভূমিরূপ	কোথাও সমতল, কোথাও উঁচু-নিচু পাহাড় ও পর্বত
প্রাণী	
আবহাওয়া	
জলাশয়	
উদ্ভিদ	
সামাজিক পরিবেশের বৈচিত্র্য	
পেশা	কৃষক, জেলে
যানবাহন	
শিক্ষাপ্রতিষ্ঠান	
ধর্মীয় অনুষ্ঠান	
ঘরবাড়ি	

গ) এসাইনমেন্ট

- আমার নিজ এলাকার প্রাকৃতিক বৈচিত্র্য বর্ণনা করি।
- গ্রাম ও শহরের আবাসিক এলাকার বৈচিত্র্য বর্ণনা করি।

ঘ) পরিবেশের উপাদানের বৈচিত্র্য নিয়ে নিচের ধারণাচিত্রটি সম্পূর্ণ করি-



২

প্রাকৃতিক ও সামাজিক পরিবেশের বৈচিত্র্যের গুরুত্ব



ক) ছবিগুলো পর্যবেক্ষণ করে নিচের ছকে তথ্য লিখি-

প্রাকৃতিক ও সামাজিক উপাদান	কীভাবে ব্যবহার করা হয়
নদী	নদী থেকে মাছ পাই; নদীতে নৌকা চলে
সমতল ভূমি	
রিকশা	
নৌকা	
গরু	
মুরগি	

বাংলাদেশ ছয় ঋতুর দেশ। বিভিন্ন ঋতুতে বিভিন্ন ধরনের ফসল, ফলমূল ও শাকসবজি পাওয়া যায়। যেমন- গ্রীষ্মকালে আম, কাঁঠাল; বর্ষাকালে জামরুল, আমড়া ও শীতকালে কমলা, বরই ইত্যাদি পাওয়া যায়। কলা ও পেঁপে সারা বছর পাওয়া যায়। পরিবেশের বৈচিত্র্যের কারণে বিভিন্ন অঞ্চলে বিভিন্ন ধরনের উদ্ভিদ ও প্রাণী পাওয়া যায়। পাহাড় ও বনভূমিতে থাকা গাছপালা আমাদেরকে কাঠ ও অক্সিজেন দেয়। বিস্তীর্ণ সমতল ভূমিতে আমরা নানা ফসল ফলাই। নদ-নদী, হাওড়-বাঁওড়, খাল বিল থেকে মাছ পাই। এছাড়াও এগুলো যাতায়াত, মালামাল পরিবহণ ও সেচ কাজে ব্যবহার করা হয়। পরিবেশের এসব বিচিত্র উপাদান মিলিতভাবে পরিবেশের ভারসাম্য রক্ষায় করে।

বিভিন্ন এলাকায় বিভিন্ন জাতি, ধর্ম ও গোষ্ঠীর লোক মিলেমিশে বসবাস করে। এর ফলে তাদের মধ্যে সম্প্রীতি ও বন্ধুত্বপূর্ণ সম্পর্ক গড়ে ওঠে। প্রাকৃতিক বৈচিত্র্যের কারণে সড়কপথ, নৌপথ, রেলপথ ইত্যাদি বিভিন্ন ধরনের যোগাযোগ ব্যবস্থা গড়ে ওঠে। আমাদের জীবনে প্রাকৃতিক পরিবেশের ন্যায় সামাজিক পরিবেশের বৈচিত্র্যও অত্যন্ত গুরুত্বপূর্ণ।

খ) কোন ঋতুতে কোন ফল পাওয়া যায় তা নিচের শব্দ-ছক থেকে খুঁজে বের করে লিখি-

ব	আ	ম	র	ফ	ম
লি	চু	জ	ক	লা	ন
পেঁ	পে	ড়	ব	র	ই
ক	ম	লা	স	ই	ত
জা	ম	চ	কাঁ	ঠা	ল

গ্রীষ্ম ঋতু	শীত ঋতু	সকল ঋতু

গ) যানবাহনের ধরন অনুযায়ী নিচের ছকে গুরুত্ব লিখি-

যানবাহন	যানবাহনের গুরুত্ব
নৌকা	
রিকশা	
বাস	
ট্রাক	

ঘ) আমাদের পরিবেশে বিভিন্ন ধরনের প্রাণী থাকার গুরুত্ব সম্পর্কে ৩টি বাক্য লিখি-

.....

.....

.....

.....

.....



৩ পরিবেশ সংরক্ষণের গুরুত্ব



ক) উপরের ছবিগুলো পর্যবেক্ষণ করি। কোন ছবিতে কী ঘটছে তা পাশের ঘরে লিখি—

পরিবেশের বৈচিত্র্য রক্ষায় আমরা কাজ করব। বাড়ির চারপাশ, বিদ্যালয়ের আঙিনা, খেলার মাঠ, রাস্তাঘাট পরিষ্কার-পরিচ্ছন্ন রাখতে সব সময় চেষ্টা করব। পলিথিন ব্যাগ ও প্লাস্টিক বোতল ব্যবহার করব না। নির্দিষ্ট স্থানে ময়লা-আবর্জনা ফেলব।

গাছপালা আমাদেরকে অক্সিজেন দেয়, কার্বন ডাই-অক্সাইড শোষণ করে এবং পরিবেশকে সুন্দর রাখে। আমাদের বাড়ির চারপাশে, বিদ্যালয়ের আঙিনায়, রাস্তার ধারে গাছ লাগিয়ে আমরা প্রাকৃতিক ও সামাজিক পরিবেশ সংরক্ষণ করতে পারি। নদ-নদী, খাল-বিল ও জলাশয়ে ময়লা-আবর্জনা ফেলে ভরাট করা হলে জলজ প্রাণীর আবাসস্থল বিনষ্ট হয়, পরিবেশ দূষিত হয় এবং জীববৈচিত্র্য হুমকির সম্মুখীন হয়। গাছপালা ও পাহাড় ইচ্ছেমতো কাটা যাবে না। পরিবেশের বৈচিত্র্য সংরক্ষণ করা আমাদের সবার দায়িত্ব।

খ) পরিবেশের বৈচিত্র্য নষ্ট হওয়ার কারণগুলো নিচের চিত্রে লিখি-



গ) পরিবেশের বৈচিত্র্য সংরক্ষণে আমার করণীয়গুলো নিচের ছকে লিখি-

ক্রমিক নং	পরিবেশের বৈচিত্র্য সংরক্ষণে আমার করণীয়
১.	
২.	
৩.	
৪.	

ঘ) নিচের ছবিগুলোতে কে কী করছে তা দেখি ও এক্ষেত্রে আমি কী করব তা পাশের খালি ঘরে লিখি-



.....

.....

.....

.....



.....

.....

.....

.....



.....

.....

.....

.....



.....

.....

.....

.....

অনুশীলনী

ক. সঠিক উত্তরের পাশে টিক (✓) চিহ্ন দিই।

- ১। সামাজিক পরিবেশের উপাদান কোনটি?
ক) পাখি খ) গাছ গ) নদী ঘ) বিদ্যালয়
- ২। প্রাকৃতিক পরিবেশের উপাদান কোনটি?
ক) বাড়ি খ) গাছ গ) রাস্তা ঘ) সেতু
- ৩। কোনটি শীতকালীন ফল?
ক) আম খ) কাঁঠাল গ) কমলা ঘ) জামরুল
- ৪। কোন ফলটি সারাবছর পাওয়া যায়?
ক) লিচু খ) কলা গ) আমড়া ঘ) জামরুল
- ৫। গাছপালা আমাদের কী দেয়?
ক) আলো খ) তাপ গ) অক্সিজেন ঘ) বাতাস

খ. সঠিক শব্দ দিয়ে শূন্যস্থান পূরণ করি।

- ১। বাংলাদেশে গ্রীষ্মকালে অনুভূত হয়।
- ২। অতিবৃষ্টির কারণে কখনো কখনো হয়।
- ৩। আমাদের সমাজে রয়েছে কৃষক, ব্যবসায়ী, শিক্ষকসহ বিভিন্ন মানুষ।
- ৪। বিভিন্ন এলাকায় বিভিন্ন জাতি, ধর্ম ও গোষ্ঠীর লোক বসবাস করে।
- ৫। আমরা স্থানে প্লাস্টিক, পলিথিন ব্যাগ ও ময়লা আর্বজনা ফেলব।

আমাদের পরিবেশ

গ. বাম পাশের সাথে ডান পাশের মিল করি।

বাম পাশ	ডান পাশ
প্রাকৃতিক পরিবেশের উপাদানগুলোর মধ্যে	প্রকৃতিকে করেছে বৈচিত্র্যপূর্ণ
নদ-নদী, খাল-বিল, হাওড়-বাওড় ইত্যাদি	বৈচিত্র্য রয়েছে
অতিবৃষ্টির কারণে কখনো কখনো	খরা হয়
অনাবৃষ্টির কারণে	বন্যা হয়

ঘ. সংক্ষিপ্ত প্রশ্ন।

- ১। প্রাকৃতিক পরিবেশের কয়েকটি উপাদানের নাম লিখি।
- ২। সামাজিক পরিবেশ কী কী উপাদান নিয়ে গঠিত হয়?
- ৩। বিভিন্ন অঞ্চলে বিভিন্ন ধরনের প্রাণী দেখতে পাওয়া যায় কেন?

ঙ. বর্ণনামূলক প্রশ্ন।

- ১। কীভাবে বৈচিত্র্যপূর্ণ প্রাকৃতিক পরিবেশ গড়ে ওঠে?
- ২। আমাদের জীবনে গাছপালার গুরুত্ব সম্পর্কে লিখি।
- ৩। পরিবেশের বৈচিত্র্য সংরক্ষণ করা কেন প্রয়োজন?

অধ্যায় : ২ আমরা সবাই মানুষ

১ মিলেমিশে থাকা



সমাজে বিভিন্ন পেশা



ভিন্ন নৃ-গোষ্ঠী ও বাঙালি

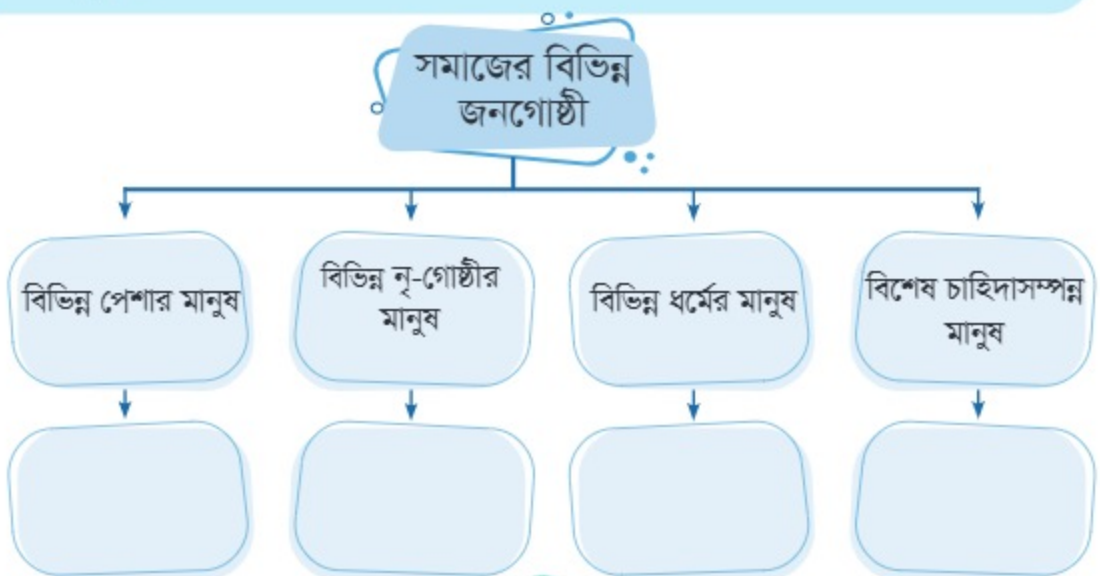


বিশেষ চাহিদাসম্পন্ন ব্যক্তি



বিভিন্ন ধর্মাবলম্বী জনগোষ্ঠী

ক) ছবিগুলো পর্যবেক্ষণ করে তার আলোকে সমাজের সদস্যদের বিভিন্নতা নিচের ঘরে লিখি-



সমাজে অনেক পরিবার মিলেমিশে বসবাস করে। এ পরিবারগুলো বিভিন্ন ধর্মের ও গোত্রের। আমাদের দেশে চাকমা, মারমা, ত্রিপুরা, গারো, সাঁওতাল প্রভৃতি নৃ-গোষ্ঠীর মানুষের বসবাস রয়েছে। তারা দেশের বৈচিত্র্যকে আরও সমৃদ্ধ করেছে। সমাজে আছে নানা বয়সের মানুষ। নারী-পুরুষ নানা পেশায় নিয়োজিত। আমরা যারা স্কুলে একসাথে পড়ি আমরাও সকলে একই রকম নই। আবার সকলে একই ধরনের খেলা পছন্দ করি না। আমাদের সমাজে কিছু মানুষ রয়েছেন, যাদের মধ্যে কেউ চোখে একটু কম দেখেন, আবার কেউ কানে কম শোনেন। তাদের আমরা বিশেষ চাহিদাসম্পন্ন মানুষ বলি।

আমরা একে অন্যকে সহায়তা করব। বিভিন্ন ধর্মীয় উৎসব ও অনুষ্ঠানে অংশগ্রহণ করব। সকল পেশার প্রতি সম্মান দেখাব। বিশেষ চাহিদাসম্পন্ন সহপাঠী ও অন্যদের বিভিন্ন কাজে সহায়তা করব। শারীরিক গড়ন বা অক্ষমতা নিয়ে কারো প্রতি কটুক্তি করব না।

(খ) বাম পাশের বাক্যাংশের সাথে ডান পাশের বাক্যাংশের মিল করি-

ক	আমাদের সমাজে আমরা ধনী-দরিদ্র	ক	বন্ধুদের সাথে আনন্দে মেতে ওঠে
খ	বাংলাদেশে বাঙালি এবং বিভিন্ন	খ	আমাদের সবাইকে শ্রদ্ধা করতে হবে
গ	মিলেমিশে থাকতে হলে	গ	একসাথে বাস করি
ঘ	বিভিন্ন উৎসবে শিঙরা	ঘ	নৃ-গোষ্ঠী বাস করে

গ) পড়ি ও সম্প্রীতি রক্ষার উপায়সমূহের তালিকা তৈরি করি-

ক্রমিক নং	সম্প্রীতি রক্ষার উপায়
১	বিভিন্ন অনুষ্ঠানে অংশগ্রহণ করে

ঘ) নিচের বাক্যগুলো পড়ি, কোন কাজগুলো করব ও কোনগুলো করব না তা শ্রেণিকরণ করি এবং সংশ্লিষ্ট নম্বরগুলো ছকে লিখি—

১নং

ইহান একজন
বয়স্ক লোককে
রাস্তা পার হতে
সহায়তা করছে।

২নং

পরেশ তার
সহপাঠীকে হুইল
চেয়ারে নিয়ে
যেতে সহায়তা
করছে।

৩নং

আরিশা তার
শিক্ষককে
সালাম দিচ্ছে।

৪নং

একজন সহপাঠী
পড়ে গেছে, রনি
পাশ দিয়ে হেঁটে
চলে গেল।

৫নং

মেহেদী, রিদিশা,
সুবল, কেয়া
মিলে বক্স পুলক
চাকমার জন্মদিন
উদ্‌যাপন করছে।

৬নং

কোনো একজন
শিক্ষার্থীকে
সহপাঠীরা তাদের
সাথে খেলতে নেয়
না।

৭নং

নাজিফা একজন
ক্ষুধার্ত ব্যক্তিকে
খাবার দিচ্ছে।

৮নং

অনেক সময়
কেউ কেউ
সহপাঠীদেরকে
ব্যঙ্গ করে।

ছক

আমি যে কাজগুলো করব	আমি যে কাজগুলো করব না
১নং	৮নং

২

ছেলে মেয়ে সবাই সমান



ছবি-১



ছবি-২



ছবি-৩



ছবি-৪



ছবি-৫

ক) পূর্বের পৃষ্ঠার ছবিগুলো পর্যবেক্ষণ করি, কোন কাজ ছেলেরা ও কোন কাজ মেয়েরা করছে তা নিচের ছকে লিখি—

ছেলে	মেয়ে
১.	১.
২.	২.
৩.	৩.
৪.	৪.

খ) ছবিগুলোর আলোকে কোন কাজ ছেলে ও মেয়ে উভয়ে করতে পারে তা নিচের ছকে লিখি—

উভয়েই করতে পারে
১.
২.
৩.
৪.

গ) পরিবার-১ ও পরিবার-২ সম্পর্কে পড়ি, কোন পরিবারে কে কী করছে তা বের করি।
কোন পরিবার বেশি ভালো আছে এবং কেন তা লিখি-

পরিবার-১

সালাম মিয়া একজন কৃষক। মেহেদী ও তিশা তাঁর সন্তান। দুজনেই স্কুলে পড়ে। তিশা মাকে ঘর গোছানোর কাজে ও মেহেদী বাবার কাজে সহায়তা করে। আবার মেহেদী যখন মাকে সহায়তা করে তিশা তখন বাবাকে। হাঁস-মুরগির যত্ন নেওয়া, গরু-ছাগল লালনপালন, রান্নায় মাকে সহায়তা সবকিছুই দুজনে মিলে করে। মা-বাবার কষ্ট অনেক কম হয়। পরিবারের সকল কাজ সহজেই হয়ে যায়। দুই ভাইবোন আনন্দের সাথে কাজগুলো করে। এতে ওদের পড়াশোনারও অসুবিধা হয় না।

পরিবার-২

হাসান আলী কৃষিকাজ করেন। তাঁর দুটি সন্তান। রনি ও সানজারা। দুজনেই স্কুলে পড়ে। সানজারা মাকে নানা কাজে সাহায্য করলেও রনি করে না। রনি যখন বাড়িতে থাকে তখন শুধু খেলাধুলা করে। বাবার কাজেও সাহায্য করে না। সানজারা একা মা ও বাবাকে সব সময় সাহায্য করতে পারে না। মা-বাবা দুজনকেই অনেক পরিশ্রম করতে হয়। পরিবারের কাজও সহজে হয় না। রনির চেয়ে সানজারাকে বেশি কাজ করতে হয়। তাতে সানজারার লেখাপড়ার অসুবিধা হয়।

পরিবার-১

কে কী করছে?

১.
২.
৩.
৪.

পরিবার-২

কে কী করছে?

১.
২.
৩.
৪.

কোন পরিবার বেশি ভালো আছে এবং কেন?

.....

.....

.....

আমরা সবাই মানুষ

মা-বাবা ও ভাই-বোন নিয়ে সাধারণত একটি পরিবার গঠিত হয়। কখনো পরিবারে দাদা-দাদি, চাচা-চাচি ও অন্যান্য আত্মীয় থাকেন। পরিবারে সকলের সমান অধিকার রয়েছে। ছেলে ও মেয়ে সকলেই বাসায় ও বাইরে কাজ করতে পারে। বাসার কাজও ছেলে-মেয়ে সকলে মিলে করলে সহজ হয়। সকলে একসঙ্গে কাজ করলে পরিবার ও দেশের উন্নতি হয়।

ঘ) নিচের কথাগুলো পড়ি, যে কথাগুলো সঠিক তার পাশে টিকচিহ্ন (✓) ও যে কথাগুলো সঠিক নয় তার পাশে ক্রসচিহ্ন (×) দিই এবং এগুলোর মধ্যে আমি কোনগুলো করব তা নিচে লিখি-

আমি নিজের
বিছানা নিজে
গোছাই।



আমরা বাবা ও
মায়ের কাজে সাহায্য
করি।



আমি বল
খেলতে চাইলে
অন্যরা বলে ওটা
ছেলেদের খেলা।



আমি ও আমার ভাই
দুজনে মিলে ঘর
গোছাই ও রান্নার
কাজে সাহায্য করি।



আমি যা করব :

1.
2.
3.
4.

অনুশীলনী

ক. সঠিক উত্তরের পাশে টিক (✓) চিহ্ন দিই।

১। বিশেষ চাহিদাসম্পন্ন সহপাঠীর প্রতি আমরা কেমন আচরণ করব?

ক) অবহেলা করব খ) কটুক্তি করব গ) সহায়তা করব ঘ) এড়িয়ে চলব

২। আমার কোনো সহপাঠী বেঞ্চ থেকে নিচে পড়ে গেলে আমি কী করব?

ক) হেসে দেবা খ) তাকাব না গ) ধরে তুলব ঘ) দোষারোপ করব

খ. সঠিক শব্দ দিয়ে শূন্যস্থান পূরণ করি।

১। বিভিন্ন নৃ-গোষ্ঠীর মানুষের বসবাস দেশের বৈচিত্র্যকে আরও করেছে।

২। আমরা একে অন্যকে..... করব।

৩। সকল পেশার প্রতি দেখাব।

৪। পরিবারে ছেলে ও মেয়ে সকলের..... অধিকার রয়েছে।

৫। সকলে..... কাজ করলে পরিবার ও দেশের উন্নতি হয়।

গ. সংক্ষিপ্ত প্রশ্ন।

১। বাসার কাজ কীভাবে করলে সহজ হয়?

২। ছেলে ও মেয়ে সকলের প্রতি আমাদের কেমন ব্যবহার করা উচিত?

ঘ. বর্ণনামূলক প্রশ্ন।

১। কীভাবে আমাদের মাঝে সম্প্রীতি গড়ে ওঠে?

২। বিশেষ চাহিদাসম্পন্ন সহপাঠীর সাথে আমি কীরূপ আচরণ করব?

আমাদের চার নেতা

১. শেরে বাংলা এ কে ফজলুল হক

এ কে ফজলুল হক ছিলেন উপমহাদেশের একজন সাহসী নেতা। তাই তাকে শেরে বাংলা বলা হয়। শেরে বাংলা অর্থ বাংলার বাঘ। তাঁর পুরো নাম আবুল কাশেম ফজলুল হক। তিনি ১৮৭৩ সালে এখনকার বরিশাল জেলার বাকেরগঞ্জে জন্মগ্রহণ করেন। তিনি বরিশাল জিলা স্কুল থেকে এন্ট্রাস (এসএসসি) এবং



শেরে বাংলা এ কে ফজলুল হক

কলকাতা প্রেসিডেন্সি কলেজ থেকে এফএ (এইচএসসি) পাস করেন। এরপর তিনি কলকাতা আইন কলেজ থেকে আইন বিষয়ে পড়ে আইনজীবী হিসেবে কাজ শুরু করেন। যারা আইন পেশায় কাজ করেন তাদের উকিল বলা হয়। তখন আমাদের দেশ স্বাধীন ছিল না। এই দেশ ইংরেজরা শাসন করতো। ১৯৪৭ সালে ইংরেজদের বিরুদ্ধে সংগ্রাম করে আমরা পাকিস্তান প্রতিষ্ঠা করি। পাকিস্তান প্রতিষ্ঠার জন্য শেরে বাংলা এ কে ফজলুল হক অনেক আন্দোলন করেন। তিনি কৃষক-প্রজা পার্টি গঠন করেন। তিনি ছিলেন অবিভক্ত বাংলার প্রথম নির্বাচিত প্রধানমন্ত্রী। তখন দেশের বেশির ভাগ জমির মালিক ছিল কিছু জমিদার। আর বাকি সবাই ছিল প্রজা। শেরে বাংলা জমিদারি ব্যবস্থা বাতিল করে কৃষকদের দুঃখ দূর করার চেষ্টা করেন।

মহাজনদের ঋণের অত্যাচার থেকে কৃষকদের বাঁচানোর জন্য ঋণ সালিশি বোর্ড গঠন করেন। শিক্ষার উন্নতির জন্য প্রতিষ্ঠা করেন অনেক স্কুল ও কলেজ। বাংলাদেশের সাধারণ মানুষের নেতা ছিলেন শেরে বাংলা এ কে ফজলুল হক।

ক) অনুচ্ছেদ পড়ে নিচের প্রশ্নগুলোর উত্তর লিখি।

১. শেরে বাংলা এ কে ফজলুল হক কত সালে এবং কোথায় জন্মগ্রহণ করেন?
২. তাঁর পার্টির নাম কী ছিল?
৩. তাঁকে শেরে বাংলা বলা হয় কেন?

খ) উপরের অনুচ্ছেদটুকু পড়ে নেতা হিসেবে শেরে বাংলা এ কে ফজলুল হকের অবদান লিখি।

১.
২.
৩.

২. মওলানা আবদুল হামিদ খান ভাসানী

মওলানা আবদুল হামিদ খান ভাসানী বাংলাদেশের মজলুম জননেতা। মজলুম শব্দের অর্থ যার উপর অত্যাচার বা নির্যাতন করা হয়। মওলানা ভাসানী সারাজীবন নির্যাতিত মানুষের জন্য কাজ করেছেন। তিনি ১৮৮০ সালে সিরাজগঞ্জ জেলার ধনপাড়া গ্রামে জন্মগ্রহণ করেন। তিনি স্থানীয় স্কুল ও মাদ্রাসায় পড়াশোনা শেষ করে একটি প্রাথমিক বিদ্যালয়ের শিক্ষক হিসেবে কর্মজীবন শুরু করেন। আসামের ভাসানচরে তিনি কৃষকদের জন্য অনেক কাজ করেন। এজন্য ওই এলাকার মানুষ তাঁকে ‘ভাসানী’ উপাধি দিয়ে সম্মান জানায়।



মওলানা আবদুল হামিদ খান ভাসানী

ইংরেজদের বিরুদ্ধে তিনি অনেক আন্দোলনে অংশগ্রহণ করেছেন। পাকিস্তান প্রতিষ্ঠার পর তিনি পূর্ববাংলার সাধারণ মানুষের মুক্তির জন্য সংগ্রাম করেন। তিনি একাধিক রাজনৈতিক দলও গঠন করেন। তিনি এমন একটি সমাজ চাইতেন যেখানে মানুষের উপর নির্যাতন থাকবে না, সমাজে বৈষম্য থাকবে না। রষ্ট্রভাষা আন্দোলন, উনসত্তরের গণঅভ্যুত্থান, একাত্তরের স্বাধীনতা যুদ্ধে মওলানা ভাসানী অনেক অবদান রেখেছেন। তিনি গ্রাম-গঞ্জ, শহর-বন্দর ঘুরে ঘুরে সাধারণ মানুষকে তাদের অধিকার সম্পর্কে সচেতন করে তুলতেন। সাধারণ মানুষের অধিকার রক্ষার আন্দোলন করতে গিয়ে তিনি অনেকবার কারাবরণ করেন। দেশ এবং দেশের মানুষের উপর করা সকল বড়যন্ত্রের বিরুদ্ধে তিনি সব সময় সোচ্চার ছিলেন। তিনি শিক্ষার বিস্তারে অসংখ্য শিক্ষাপ্রতিষ্ঠান স্থাপন করেছেন। মওলানা ভাসানী ছিলেন বাংলাদেশের গণমানুষের নেতা।

গ) অনুচ্ছেদ পড়ে নিচের প্রশ্নগুলোর উত্তর লিখি।

১. মওলানা আবদুল হামিদ খান ভাসানী কত সালে এবং কোথায় জন্মগ্রহণ করেন?
২. তিনি কীভাবে তাঁর কর্মজীবন শুরু করেন?
৩. তাঁকে ভাসানী বলা হয় কেন?

ঘ) উপরের অনুচ্ছেদটুকু পড়ে নেতা হিসেবে মওলানা আবদুল হামিদ খান ভাসানীর অবদান লিখি।

১.
২.
৩.

৩. হোসেন শহীদ সোহরাওয়ার্দী

হোসেন শহীদ সোহরাওয়ার্দী অবিভক্ত বাংলার একজন গুরুত্বপূর্ণ রাজনীতিবিদ ছিলেন। তিনি ১৮৯২ সালে ভারতের পশ্চিমবঙ্গের মেদিনীপুর জেলায় জন্মগ্রহণ করেন। তিনি অক্সফোর্ড বিশ্ববিদ্যালয় থেকে আইন বিষয়ে পড়াশোনা করেন। এরপর দেশে ফিরে আইনজীবী হিসেবে কাজ শুরু করেন। তিনি কলকাতা কর্পোরেশনের ডেপুটি মেয়র, বাংলা প্রাদেশিক সরকারের শ্রমমন্ত্রী, সরবরাহ মন্ত্রী, প্রধানমন্ত্রী এবং পাকিস্তানের প্রধানমন্ত্রী ছিলেন।



হোসেন শহীদ সোহরাওয়ার্দী

জনগণের অধিকার প্রতিষ্ঠার জন্য তিনি আজীবন কাজ করেছেন। তিনি মুসলিম লীগেরও গুরুত্বপূর্ণ নেতা ছিলেন। ১৯৪৭ সালে পাকিস্তান সৃষ্টি হয়। তখন আমাদের দেশের নাম ছিল পূর্ব পাকিস্তান। পাকিস্তান সৃষ্টির পর ১৯৫৪ সালে একটি নির্বাচন হয়েছিল। সেই নির্বাচনে যুক্তফ্রন্টের কাছে মুসলিম লীগ পরাজিত হয়। হোসেন শহীদ সোহরাওয়ার্দী যুক্তফ্রন্ট গঠনের জন্য প্রধান ভূমিকা পালন করেন। তৎকালীন পাকিস্তানের সকল জাতি ও সকল ধর্মের মানুষের অধিকার রক্ষার জন্য তিনি কাজ করেছেন। তাই তাঁকে গণতন্ত্রের মানসপুত্র বলা হয়।

ক) অনুচ্ছেদ পড়ে নিচের প্রশ্নগুলোর উত্তর লিখি।

১. হোসেন শহীদ সোহরাওয়ার্দী কত সালে এবং কোথায় জন্মগ্রহণ করেন?
২. তিনি কোন বিশ্ববিদ্যালয়ে পড়াশোনা করেছিলেন?
৩. তিনি কী কাজের মাধ্যমে তাঁর কর্মজীবন শুরু করেন?

খ) উপরের অনুচ্ছেদটুকু পড়ে রাজনৈতিক নেতা হিসেবে হোসেন শহীদ সোহরাওয়ার্দীর অবদান লিখি।

১.
২.
৩.

৪. বঙ্গবন্ধু শেখ মুজিবুর রহমান

বঙ্গবন্ধু শেখ মুজিবুর রহমান ১৯২০ সালে তৎকালীন ফরিদপুর জেলার গোপালগঞ্জ মহকুমার টুঙ্গীপাড়া গ্রামে জন্মগ্রহণ করেন। তিনি অল্প বয়স থেকেই রাজনীতি বিষয়ে সচেতন ছিলেন। তিনি কলকাতার ইসলামিয়া কলেজে পড়াশোনা করেন। তিনি ছাত্র অবস্থায় পাকিস্তান প্রতিষ্ঠার আন্দোলনে অংশগ্রহণ করেন। ওই সময় তিনি মুসলিম লীগের রাজনীতি শুরু করেন এবং তরুণ নেতা হিসেবে খ্যাতি লাভ করেন। এরপর তিনি ঢাকা বিশ্ববিদ্যালয়ে ভর্তি হন।



বঙ্গবন্ধু শেখ মুজিবুর রহমান

পাকিস্তান প্রতিষ্ঠার পর তিনি পাকিস্তান সরকারের নানা অন্যায়ের বিরুদ্ধে আন্দোলন শুরু করেন। এজন্য তাঁকে অনেকবার কারাবরণ করতে হয়। তিনি ১৯৬৬ সালে পূর্ব পাকিস্তানের মানুষের কল্যাণের জন্য ছয় দফা দাবি পেশ করেন। এ জন্য পাকিস্তান সরকার তাঁর নামে আগরতলা ষড়যন্ত্র মামলা দিয়ে তাঁকে কারাগারে বন্দি করে রাখে।

এরপর ১৯৬৯ সালে গণঅভ্যুত্থান হয় এবং গণঅভ্যুত্থানের পর তিনি মুক্তি পান। ছাত্র-জনতা তাঁকে 'বঙ্গবন্ধু' উপাধি দেন। ১৯৭১ সালের ৭ই মার্চ তিনি ঐতিহাসিক ভাষণ দেন। এতে পূর্ববাংলার সাধারণ মানুষ স্বাধীনতার জন্য উজ্জীবিত হয়। ১৯৭১ সালের ২৬শে মার্চ মুক্তিযুদ্ধ শুরু হলে তাঁকে পাকিস্তানি সেনাবাহিনী আটক করে পাকিস্তানে বন্দি করে রাখে। বাংলাদেশ স্বাধীন হলে তিনি বাংলাদেশে ফিরে আসেন। স্বাধীন বাংলাদেশে তিনি প্রধানমন্ত্রী ও রাষ্ট্রপতি হিসেবে দায়িত্ব পালন করেন। ১৯৭৫ সালের ১৫ই আগস্ট পরিবারের সদস্যবর্গসহ তাঁকে হত্যা করা হয়।

গ) অনুচ্ছেদ পড়ে নিচের প্রশ্নগুলোর উত্তর লিখি।

১. বঙ্গবন্ধু শেখ মুজিবুর রহমান কত সালে এবং কোথায় জন্মগ্রহণ করেন?
২. তিনি কোন কলেজে পড়াশোনা করতেন?
৩. তিনি কত সালে ছয় দফা দাবির কথা বলেন?

ঘ) উপরের অনুচ্ছেটকু পড়ে নেতা হিসেবে বঙ্গবন্ধু শেখ মুজিবুর রহমানের অবদান লিখি।

১.
২.
৩.

অনুশীলনী

ক. সঠিক উত্তরের পাশে টিক (✓) চিহ্ন দিই।

- শেরে বাংলা এ কে ফজলুল হক কোন জেলায় জন্মগ্রহণ করেন?
ক) সিরাজগঞ্জ খ) বরিশাল গ) ফরিদপুর ঘ) রংপুর
- মওলানা আবদুল হামিদ খান ভাসানীকে কী বলে ডাকা হতো?
ক) দেশনেতা খ) বিপ্লবী নেতা গ) শ্রমিক নেতা ঘ) মজলুম জননেতা
- বঙ্গবন্ধু শেখ মুজিবুর রহমান কত সালে ছয় দফা দাবির কথা বলেন?
ক) ১৯৫২ খ) ১৯৪৭ গ) ১৯৬৯ ঘ) ১৯৬৬
- যুক্তফ্রন্ট গঠনের জন্য কে প্রধান ভূমিকা পালন করেন?
ক) মওলানা আবদুল হামিদ খান ভাসানী খ) হোসেন শহীদ সোহরাওয়ার্দী
গ) শেরে বাংলা এ কে ফজলুল হক ঘ) বঙ্গবন্ধু শেখ মুজিবুর রহমান

খ. সঠিক শব্দ দিয়ে শূন্যস্থান পূরণ করি।

- জনগণের প্রতিষ্ঠার জন্য হোসেন শহীদ সোহরাওয়ার্দী কাজ করেন।
- বঙ্গবন্ধু শেখ মুজিবুর রহমান ছাত্র অবস্থায় প্রতিষ্ঠার আন্দোলন করেন।
- এ কে ফজলুল হক ছিলেন উপমহাদেশের একজন নেতা।
- মওলানা ভাসানী ছিলেন বাংলাদেশের নেতা।

গ. সংক্ষিপ্ত প্রশ্ন।

- হোসেন শহীদ সোহরাওয়ার্দী কে ছিলেন?
- কারা মওলানা আবদুল হামিদ খানকে 'ভাসানী' উপাধি দিয়েছিলেন?
- বঙ্গবন্ধু শেখ মুজিবুর রহমানের নামে আগরতলা ষড়যন্ত্র মামলা দেয়া হয় কেন?
- কেন শেরে বাংলা এ কে ফজলুল হক ঋণ সালিশি বোর্ড গঠন করেন?

ঘ. বর্ণনামূলক প্রশ্ন।

- নেতা হিসেবে হোসেন শহীদ সোহরাওয়ার্দীর অবদান লিখি।
- নেতা হিসেবে বঙ্গবন্ধু শেখ মুজিবুর রহমানের অবদান লিখি।
- সমাজের বৈষম্য দূর করতে মওলানা আবদুল হামিদ খান ভাসানী কীভাবে অবদান রেখেছেন?
- এ কে ফজলুল হককে 'বাংলার বাঘ' বলা হয় কেন?

অধ্যায় : ৪
আমাদের ইতিহাস

১ ভাষা আন্দোলন



ছবি-১ ভাষা আন্দোলনের সূত্রপাত ১৯৪৮



ছবি-২ ভাষা আন্দোলন ১৯৫২



ছবি-৩ শহিদ মিনার ১৯৫২



ছবি-৪ শহিদ মিনার ১৯৬৩

ক) উপরের ছবিগুলো পর্যবেক্ষণ করি ও নিচের ছকে লিখি-

ছবিগুলো কীসের?	১.
	২.
	৩.
	৪.
ঘটনাগুলো কখন ঘটেছিল?	১.
	২.
	৩.
কেন ঘটেছিল?	

১৯৪৭ সালে ভারত ও পাকিস্তান নামে দুটি স্বাধীন রাষ্ট্রের জন্ম হয়। পাকিস্তান দুটি অংশে বিভক্ত ছিল। একটি পূর্ব পাকিস্তান এবং অপরটি পশ্চিম পাকিস্তান। পাকিস্তানের জনসংখ্যার বেশির ভাগ লোকই ছিল বাঙালি। বাঙালিদের মাতৃভাষা বাংলা। বাঙালিরা পূর্ব পাকিস্তানে বাস করত। কিন্তু পাকিস্তানের শাসকেরা পশ্চিম পাকিস্তানের উর্দুকে রাষ্ট্রভাষা করার সিদ্ধান্ত নেয়। ১৯৪৮ সালে পূর্ব পাকিস্তানের জনগণ বাংলাকে রাষ্ট্রভাষা করার দাবি করে। এ সময় বাংলা ভাষার দাবিতে অনেকেই গ্রেফতার হন। কিছুদিন পরেই পাকিস্তানের গভর্নর জেনারেল মোহাম্মদ আলী জিন্নাহ ঢাকায় আসেন। তিনি ঢাকা বিশ্ববিদ্যালয়ের এক সভায় উর্দুকে পাকিস্তানের একমাত্র রাষ্ট্রভাষা করার ঘোষণা দেন। ছাত্রসমাজ সরাসরি তার প্রতিবাদ করে। ১৯৫২ সালের ২১শে ফেব্রুয়ারি ঢাকার রাজপথে তারা মিছিল বের করে। দাবি একটাই-রাষ্ট্রভাষা বাংলা চাই। পুলিশ মিছিলে গুলি চালায়। শহিদ হন সালাম, বরকত, রফিক, জব্বারসহ আরও অনেকে। ভাষার দাবিতে শহিদ হন বলে আমরা তাঁদেরকে ভাষাশহিদ বলি। ১৯৫৬ সালে বাংলা ও উর্দু উভয় ভাষাই পাকিস্তানের রাষ্ট্রভাষা হিসেবে স্বীকৃতি লাভ করে। ১৯৬৩ সালে কেন্দ্রীয় শহিদ মিনার নির্মিত হয়।

খ) বিষয়বস্তু পড়ি ও কখন কী ঘটেছিল তা ধারাবাহিকভাবে সাজাই—

ভাষাশহিদ আবদুস সালাম ১৯২৫ সালে ফেনী জেলার লক্ষণপুর গ্রামে (বর্তমানে সালাম নগর) জন্মগ্রহণ করেন। তাঁর বাবা মুন্শি আবদুল ফাজেল ও মা দৌলতের নেছা। ভাষাশহিদ আবুল বরকত ১৯২৭ সালে ভারতের মুর্শিদাবাদ জেলার বাবলা গ্রামে জন্মগ্রহণ করেন। তাঁর বাবার নাম সামসুজ্জোহা এবং মা হাসিনা বিবি। ভাষাশহিদ রফিক উদ্দিন আহমদ ১৯২৬ সালে মানিকগঞ্জ জেলার পারিল গ্রামে জন্মগ্রহণ করেন। তাঁর বাবার নাম আবদুল লতিফ ও মা রাফিজা খাতুন। ভাষাশহিদ আবদুল জব্বার ১৯১৯ সালে ময়মনসিংহ জেলার পাঁচুয়া গ্রামে জন্মগ্রহণ করেন। তাঁর বাবার নাম হাছেন আলী এবং মা সাফাতুন নেছা।



গ) ভাষাশহিদদের সম্পর্কে তথ্য খুঁজে বের করি ও নিচের চিত্রে লিখি-



সালাম

জন্মস্থান :

জন্ম সাল :

মা :

বাবা :



রাফিক

জন্মস্থান :

জন্ম সাল :

মা :

বাবা :



বরকত

জন্মস্থান :

জন্ম সাল :

মা :

বাবা :



জব্বার

জন্মস্থান :

জন্ম সাল :

মা :

বাবা :

২ শহিদ দিবস ও আন্তর্জাতিক মাতৃভাষা দিবস



ছবি-১ প্রভাতফেরি ও পুষ্পস্তবক অর্পণ



ছবি-২ শহিদ দিবস ও আন্তর্জাতিক মাতৃভাষা দিবস পালন

ক) উপরের ছবিগুলো পর্যবেক্ষণ করি ও নিচের ছকে বর্ণনা করি-

ছবিগুলো কীসের?

অনুষ্ঠানগুলো কখন হয়?

কোথায় ফুল দিচ্ছে?

কেন ফুল দিচ্ছে?

শহিদ দিবস উপলক্ষে আবদুল গাফফার চৌধুরী রচনা করেন একুশের গান, 'আমার ভাইয়ের রক্তে রাঙানো একুশে ফেব্রুয়ারি'। ভাষাশহিদদের স্মরণে ঢাকায় কেন্দ্রীয় শহিদ মিনার তৈরি করা হয়। দেশের বিভিন্ন শিক্ষাপ্রতিষ্ঠানেও ছোটো-বড়ো শহিদ মিনার রয়েছে।

১৯৯৯ সাল থেকে ২১শে ফেব্রুয়ারি 'আন্তর্জাতিক মাতৃভাষা দিবস' হিসেবে স্বীকৃতি পায়। এটি আমাদের গর্বের বিষয়।

আমাদের ইতিহাস

আমরা রাষ্ট্রীয়ভাবে যথাযথ মর্যাদায় এ দিবসটি উদ্‌যাপন করি। শহিদ দিবস ও আন্তর্জাতিক মাতৃভাষা দিবসে আমরা খালি পায়ে হেঁটে প্রভাতফেরিতে যাই। প্রভাতফেরিতে 'আমার ভাইয়ের রক্তে রাঙানো একুশে ফেব্রুয়ারি' গানটি গাই। শহিদ মিনারে ফুল দিয়ে শ্রদ্ধা জানাই। এ দিবসে শিক্ষাপ্রতিষ্ঠানে চিত্রাঙ্কন, রচনা প্রতিযোগিতা, সাংস্কৃতিক অনুষ্ঠান ইত্যাদি অনুষ্ঠিত হয়। এ দিন জাতীয় পতাকা অর্ধনমিত রাখা হয়। আমরা ভাষাশহিদদের অবদান চিরদিন মনে রাখব।

খ) ২১শে ফেব্রুয়ারি সম্পর্কিত তথ্য নিচের চিত্রের খালি ঘরে লিখি-



গ) শহিদ দিবস ও আন্তর্জাতিক মাতৃভাষা দিবসের গুরুত্ব সম্পর্কে তিনটি বাক্য তৈরি করি-

১.

২.

৩.

ঘ) বিদ্যালয়ে প্রভাতফেরিতে শহিদ মিনারে ফুল দিয়ে শ্রদ্ধা জানানোর ভূমিকাভিনয় করি।

৩ আমাদের স্বাধীনতা দিবস



ক) মানচিত্রে বাংলাদেশ (তৎকালীন পূর্ব পাকিস্তান) এবং পাকিস্তান (তৎকালীন পশ্চিম পাকিস্তান) চিহ্নিত করি-



ছবি-১ ৭ই মার্চ ১৯৭১ সাল



ছবি-২ ২৫শে মার্চ, ১৯৭১ সাল

খ) পূর্বের পৃষ্ঠার ১নং ও ২নং ছবি পর্যবেক্ষণ করি ও কোন ছবিতে কী হচ্ছে তা বলি—

ছবি-১

কে বক্তৃতা করছেন?

.....

.....

.....

কখন করছেন?

.....

.....

.....

ছবি-২

কী ঘটেছে?

.....

.....

.....

কখন ঘটেছে?

.....

.....

.....

পাকিস্তান রাষ্ট্র প্রতিষ্ঠার পর থেকেই পাকিস্তানের শাসকগোষ্ঠী পূর্ব পাকিস্তানের মানুষকে শোষণ করতে থাকে। প্রতিবাদে এদেশের মানুষ পাকিস্তানি শাসকদের বিরুদ্ধে আন্দোলন শুরু করে। ১৯৭১ সালের ৭ই মার্চ বঙ্গবন্ধু শেখ মুজিবুর রহমান ঢাকার রেসকোর্স ময়দানে বিশাল জনসভায় ভাষণ দেন। এ ঐতিহাসিক ভাষণে তিনি ঘোষণা করেন, 'এবারের সংগ্রাম আমাদের মুক্তির সংগ্রাম, এবারের সংগ্রাম স্বাধীনতার সংগ্রাম।' এরপর ২৫শে মার্চ রাতে পাকিস্তানি বাহিনী নির্মমভাবে হত্যা করে এদেশের ছাত্র, শিক্ষক, পুলিশ, ইপিআর সদস্য ও সাধারণ মানুষকে। তাই ২৫শে মার্চকে আমরা কালরাত বলি।

২৬শে মার্চ থেকেই শুরু হয় পশ্চিম পাকিস্তানিদের বিরুদ্ধে আমাদের মুক্তিযুদ্ধ। এই মুক্তিযুদ্ধের মাধ্যমেই আমরা বাংলাদেশের স্বাধীনতা অর্জন করি। ২৬শে মার্চ মুক্তিযুদ্ধ শুরু হয়েছিল বলে এই দিবসটি আমাদের 'স্বাধীনতা দিবস।' এ দিবসটি আমাদের কাছে খুব গুরুত্বপূর্ণ।

অনেক ত্যাগের বিনিময়ে আমরা স্বাধীনতা অর্জন করেছি। মুক্তিযুদ্ধে ত্রিশ লক্ষ মানুষ শহিদ হন। শহিদদের স্মরণে সাভারে জাতীয় স্মৃতিসৌধ নির্মাণ করা হয়। স্বাধীনতা দিবসে আমরা স্মৃতিসৌধে ফুল দিয়ে শ্রদ্ধা নিবেদন করি। বিদ্যালয়ে চিত্রাঙ্কন, সাংস্কৃতিক অনুষ্ঠান, আলোচনা সভা ইত্যাদি অনুষ্ঠানের আয়োজন করা হয়। অনুষ্ঠানগুলোতে আমরা সকলে অংশগ্রহণ করি।

গ) নিচের ছকে সময় অনুযায়ী প্রদত্ত ঘটনা সাজাই-

মুক্তিযুদ্ধ শুরু, কালরাত, বঙ্গবন্ধুর ভাষণ, পূর্ব পাকিস্তানকে শোষণ করা

সময়	ঘটনা
পাকিস্তান প্রতিষ্ঠার পর	
৭ই মার্চ ১৯৭১	
২৫শে মার্চ ১৯৭১	
২৬শে মার্চ ১৯৭১	

ঘ) স্বাধীনতা দিবসের গুরুত্ব সম্পর্কে তিনটি বাক্য লিখি-

১.
২.
৩.

ঙ) আগামী স্বাধীনতা দিবস উদ্‌যাপনে কী কী করতে চাই তার একটি তালিকা তৈরি করি-

১.
২.
৩.
৪.
৫.
৬.
৭.
৮.
৯.
১০.

8 আমাদের বিজয় দিবস



ছবি-১ মুক্তিযুদ্ধের প্রস্তুতি নিচ্ছে মুক্তিবাহিনী



ছবি-২ যুদ্ধরত মুক্তিবাহিনী



ছবি-৩ পাকিস্তানি বাহিনীর আত্মসমর্পণ



ছবি-৪ মুক্তিবাহিনী ও জনগণের বিজয় আনন্দ

ক) ছবি দেখি, বলি ও নিচের ছকে লিখি-

কীসের ছবি :

ছবি-১

ছবিতে কী ঘটছে :

কেন এটি ঘটছে :

কীসের ছবি :

ছবি-২

ছবিতে কী ঘটছে :

কেন এটি ঘটছে :

কীসের ছবি :

ছবি-৩

ছবিতে কী ঘটছে :

কেন এটি ঘটছে :

কীসের ছবি :

ছবি-৪

ছবিতে কী ঘটছে :

কেন এটি ঘটছে :

১৯৭১ সালের ২৬শে মার্চ থেকে শুরু হয় স্বাধীনতা সংগ্রাম। ১০ই এপ্রিল ১৯৭১ গঠন করা হয় স্বাধীন বাংলাদেশের প্রথম অস্থায়ী সরকার। এ সরকার মুজিবনগর সরকার নামে পরিচিত। বঙ্গবন্ধু শেখ মুজিবুর রহমানকে রাষ্ট্রপতি করা হয়। স্বাধীনতা সংগ্রামের জন্য গঠন করা হয় 'মুক্তিবাহিনী'। মুক্তিযুদ্ধে অংশগ্রহণ করেন সকল শ্রেণি-পেশার মানুষ।

অসীম সাহসে তারা যুদ্ধ চালিয়ে যায়। ভারতসহ কিছু রাষ্ট্র আমাদেরকে সহযোগিতা করে। প্রায় নয় মাস ধরে মুক্তিযুদ্ধ চলে। পাকিস্তানি বাহিনী অবশেষে হার মানতে বাধ্য হয়। ১৯৭১ সালের ১৬ই ডিসেম্বর তারা আত্মসমর্পণ করে। আমরা বিজয় অর্জন করি। বিজয়ের মাধ্যমে আমরা অর্জন করি স্বাধীন দেশ, একটি মানচিত্র, জাতীয় পতাকা, জাতীয় সংগীত ও আমাদের অধিকার। ১৬ই ডিসেম্বর আমাদের বিজয় দিবস।

আমরা প্রতি বছর যথাযথ মর্যাদায় বিজয় দিবস উদ্‌যাপন করি। জাতীয় স্মৃতিসৌধে ফুল দিয়ে বীর শহিদদের প্রতি শ্রদ্ধা জানাই। শিক্ষাপ্রতিষ্ঠানে আয়োজন করা হয় চিত্রাঙ্কন, সাংস্কৃতিক অনুষ্ঠান, আলোচনা সভা ইত্যাদি অনুষ্ঠানের।

খ) বাম পাশের বিষয়বস্তু অনুযায়ী তথ্য সংযোজন করি-

বিষয়বস্তু	তথ্য লিখি
প্রথম অস্থায়ী সরকার	
অস্থায়ী সরকারের রাষ্ট্রপতি	
মুক্তিবাহিনী	
১৬ই ডিসেম্বর ১৯৭১ সাল	

গ) বইয়ে লেখাটুকু পড়ে আমাদের বিজয় অর্জনের সাথে সম্পর্কিত বিষয়গুলো নিচের সম্পর্ক চিত্রে লিখি-



ঘ) বিজয় দিবসের গুরুত্ব সম্পর্কে তিনটি বাক্য তৈরি করি-

১.

২.

৩.

ঙ) আগামী বিজয় দিবস উদযাপনে কী কী করতে চাই তার একটি তালিকা তৈরি করি-

১.

২.

৩.

৪.

৫.

৬.

৭.

৮.

৯.

১০.



অনুশীলনী

ক. সঠিক উত্তরের পাশে টিক (✓) চিহ্ন দিই।

১। 'একুশের গান' কে রচনা করেন?

ক) কাজী নজরুল ইসলাম খ) রবীন্দ্রনাথ ঠাকুর গ) শামসুর রাহমান ঘ) আবদুল গাফ্ফার চৌধুরী

২। আমাদের মুক্তিযুদ্ধ কবে শুরু হয়েছিল?

ক) ২১শে ফেব্রুয়ারি খ) ২৫শে মার্চ গ) ২৬শে মার্চ ঘ) ১৬ই ডিসেম্বর

খ. সংক্ষিপ্ত প্রশ্ন।

১। শহিদদের প্রতি সম্মান প্রদর্শনের জন্য আমি কী করব?

২। কালরাত বলতে কী বুঝায়?

৩। মুক্তিবাহিনী কেন গঠিত হয়েছিল?

৪। পাকিস্তানী বাহিনী কখন আত্মসমর্পণ করেছিল?

গ. বর্ণনামূলক প্রশ্ন।

১। ভাষা আন্দোলন কেন হয়েছিল তা বর্ণনা করি।

২। আমরা বিদ্যালয়ে কীভাবে শহিদ দিবস ও আন্তর্জাতিক মাতৃভাষা দিবস পালন করবো তার একটি পরিকল্পনা করি।

অধ্যায় : ৫ আমাদের সংস্কৃতি

১ আমাদের ভাষা, খাবার ও পোশাক



কোন ভাষার কথা বলা হয়েছে :

খাবারের নামগুলো লিখি :



পুরুষের পোশাকের নাম :

নারীদের পোশাকের নাম :

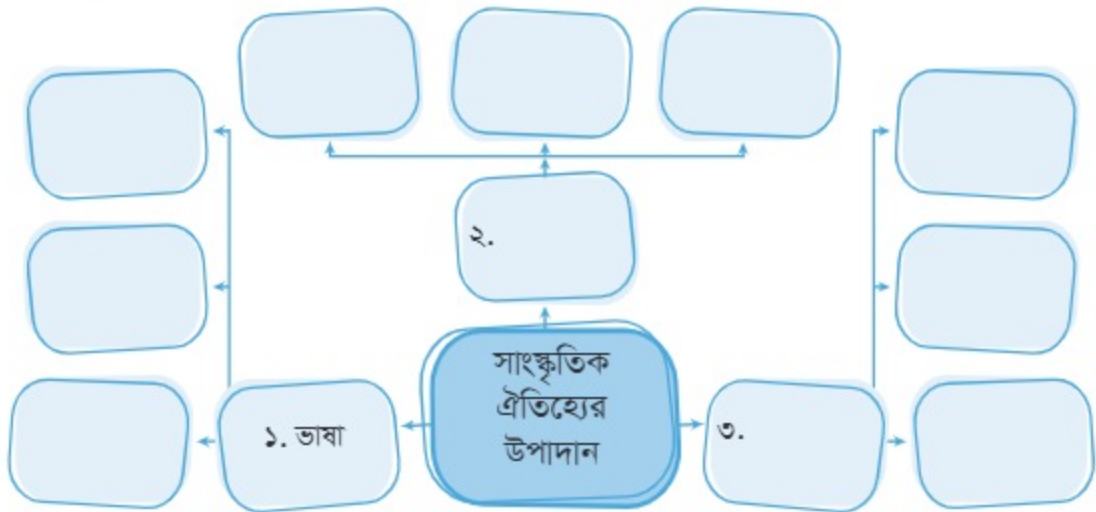
আমাদের নিজস্ব ভাষা রয়েছে। জীবনধারণের জন্য আমরা খাবার খেয়ে থাকি এবং সামাজিক জীব হিসেবে পোশাক পরিধান করে থাকি। মানুষের ব্যবহৃত ভাষা, খাবার, পোশাক, প্রথা, আচার, বিশ্বাস, নিয়ম-কানুন সব মিলে সংস্কৃতি তৈরি হয়। সংস্কৃতির আরও উপাদান রয়েছে যেমন নৃত্য, সংগীত, উৎসব ও ধর্মীয় আচার অনুষ্ঠান ইত্যাদি

আমাদের মাতৃভাষা বাংলা। আমরা এ ভাষাতেই পড়ি, লিখি এবং কথা বলে মনের ভাব প্রকাশ করি। বাংলাদেশের মানুষ বাংলা ভাষায় কথা বললেও এ ভাষার রয়েছে বিভিন্ন আঞ্চলিক রূপ। এছাড়াও বাংলা ভাষার পাশাপাশি এদেশে বসবাসকারী অন্যান্য নৃ-গোষ্ঠীরও নিজস্ব ভাষা রয়েছে। বিশ্বের মাতৃভাষায় কথা বলা জনসংখ্যার মধ্যে বাংলা ভাষা পঞ্চম। ভাষা আমাদের সংস্কৃতির অন্যতম উপাদান।

বাংলাদেশের সংস্কৃতির আরও একটি উল্লেখযোগ্য উপাদান হলো খাদ্য। দৈনন্দিন জীবনে আমরা ভাত, মাছ, মাংস, ভর্তা, সবজি, ডাল ইত্যাদি খাবার খেয়ে থাকি। এছাড়া বিভিন্ন উৎসব ও অনুষ্ঠানে পোলাও, কোর্মা, বিরিয়ানি, রোস্ট এবং বিভিন্ন ধরনের মাংস ও মাছের পদ পরিবেশন করা হয়। এছাড়াও রয়েছে বিভিন্ন ধরনের মিষ্টি জাতীয় খাবার, যেমন- ফিরনি, সেমাই, দই, মিষ্টি ও নানা রকমের পিঠা। আমাদের দেশের উল্লেখযোগ্য পিঠাগুলো হচ্ছে চিতই পিঠা, ভাপা পিঠা, দুধ চিতই, পুলি পিঠা, পাটিসাপটা, পাকন পিঠা, পানতোয়া, মালপোয়া, কুলশি, কাটা পিঠা, কলা পিঠা, নারকেল পিঠা, নারকেলের ভাজা পুলি, তেলের পিঠা, সেমাই পিঠা প্রভৃতি। বাংলাদেশের অন্যান্য নৃ-গোষ্ঠীর কিছু ঐতিহ্যগত খাবারও রয়েছে, যেমন- নাপ্পি, লাসৌ, খাংরো, শিংজু ইত্যাদি।

বাংলাদেশের মানুষ নানা রকমের পোশাক পরে। পুরুষদের পোশাকগুলোর মধ্যে লুঙ্গি, গেঞ্জি, ফতুয়া, পাজামা, পাঞ্জাবি, ধুতি অন্যতম। এছাড়া উল্লেখযোগ্য পোশাকগুলো হলো শার্ট, প্যান্ট, সুট, সোয়েটার, জ্যাকেট ইত্যাদি। নারীদের ঐতিহ্যবাহী পোশাক হচ্ছে শাড়ি। তাছাড়া অনেকে সালোয়ার, কামিজ, ফ্রক, স্কার্ট, বোরকা, হিজাব ইত্যাদি পোশাক পরেন। শিশুদের মধ্যে ছেলেরা সাধারণত গেঞ্জি, হাফপ্যান্ট, শার্ট, পায়জামা, পাঞ্জাবি, জ্যাকেট ইত্যাদি পোশাক পরে; আর মেয়েরা ফ্রক, সালোয়ার, কামিজ, স্কার্ট, কার্ডিগান ইত্যাদি পোশাক পরে। বাংলাদেশের অন্যান্য নৃ-গোষ্ঠীর জনগণ কিছু ঐতিহ্যগত পোশাকও পরিধান করেন, যেমন- পিনন, হাদি, থামি, আঙ্গি, দকবান্দা, দকসারি ইত্যাদি। বাংলাদেশের সকল জনগোষ্ঠীর ভাষা, খাবার ও পোশাকের বৈচিত্র্য এদেশের সাংস্কৃতিকে সমৃদ্ধ করেছে।

ক) অনুচ্ছেদে উল্লিখিত সংস্কৃতির উপাদানগুলো খুঁজে নিচের বক্সে তা লিখি-



খ) পরিবারে আমরা কী কী ধরনের পোশাক পরি ও খাবার খাই তার তালিকা করি-



পোশাক

১. _____
২. _____
৩. _____
৪. _____
৫. _____



খাবার

১. _____
২. _____
৩. _____
৪. _____
৫. _____

গ) শূন্যস্থানে উপযুক্ত শব্দ বসাই-

বাংলা	ভাষা	নাঙ্গি	পোশাক সম্পর্কিত
-------	------	--------	-----------------

১. যোগাযোগে ব্যবহৃত সাংস্কৃতিক উপাদান ----- ।
২. বাংলাদেশের রাষ্ট্রভাষার নাম ----- ।
৩. বাংলাদেশের বিভিন্ন নৃ-গোষ্ঠীর ঐতিহ্যবাহী খাবার ----- ।
৪. শাড়ি ও পাঞ্জাবি ----- সাংস্কৃতিক উপাদান ।

ঘ) আমি বিবাহ, জন্মদিন, ধর্মীয় ইত্যাদি বিভিন্ন অনুষ্ঠানে অংশগ্রহণ করেছি। সেগুলোতে লোকজন কী কী পোশাক পরে এসেছিল এবং কী কী খাবার পরিবেশন করা হয়েছিল, তার একটি তালিকা তৈরি করি-

লোকজনের পরিধেয় পোশাকের নাম	পরিবেশিত খাবারের নাম

২ আমাদের সংগীত, নৃত্য ও উৎসব অনুষ্ঠান



কী করছে?

.....



কী করছে?

.....



কী অনুষ্ঠানের ছবি?

.....



কী অনুষ্ঠানের ছবি?

.....

সংগীত

বাংলাদেশে নানা ধরনের সংগীত রয়েছে। যেমন- বাউল, জারি, সারি, ভাটিয়ালি, পল্লিগীতি, ভাওয়াইয়া, নজরুল সংগীত, রবীন্দ্র সংগীত, আধুনিক গান ইত্যাদি। ফকির লালন শাহের লালনগীতি এবং হাসন রাজার গানও খুব জনপ্রিয়। এদেশের বিভিন্ন অঞ্চলের গান আমাদের হৃদয় ছুঁয়ে যায়। এছাড়াও বিভিন্ন নৃ-গোষ্ঠীর নিজস্ব ভাষার সংগীতও খুব জনপ্রিয়। সংগীত হলো সংস্কৃতির একটা গুরুত্বপূর্ণ উপাদান।

নৃত্য

আমাদের সংস্কৃতির বিশেষ উপাদান হচ্ছে নৃত্য বা নাচ। আমাদের দেশে নানা ধরনের নৃত্য আছে। যেমন- লোকনৃত্য, সৃজনশীল নৃত্য, শাস্ত্রীয় নৃত্য, নৃ-গোষ্ঠীর নৃত্য ইত্যাদি।

লোকনৃত্য হচ্ছে কোনো একটি অঞ্চলে বসবাসকারী জনগোষ্ঠীর জীবনঘনিষ্ঠ নৃত্য। যেমন- ধামাইল, জারি গানের সঙ্গে নাচ, সারি গানের সঙ্গে নাচ, সাপুড়ে নাচ।

সৃজনশীল নৃত্য হচ্ছে নজরুল সংগীত, রবীন্দ্র সংগীত, আধুনিক গান, দেশাত্মবোধক গানকে ভিত্তি করে পরিবেশিত নৃত্য।

ভিন্ন নৃ-গোষ্ঠীর জুম নৃত্য, থালা নৃত্য, বাঁশ নৃত্য, ছাতা নৃত্য খুবই চমৎকার। নিজেদের ঐতিহ্যবাহী পোশাক, বাদ্যযন্ত্র ও গানের সাথে তারা কখনো একত্রে, আবার কখনো এককভাবে নাচে।

উৎসব

বাংলাদেশের প্রধান সামাজিক উৎসব হচ্ছে বাংলা নববর্ষ। বাংলা বছরের প্রথম দিন অর্থাৎ পহেলা বৈশাখ এ উৎসবটি পালিত হয়। অন্যান্য নৃ-গোষ্ঠী বিজু, সাংগ্রাই ইত্যাদি নামে পহেলা বৈশাখ পালন করে। এছাড়া রয়েছে নবান্ন উৎসব। কৃষকের ঘরে নতুন ফসল তোলা উপলক্ষ্যে এ উৎসব পালিত হয়। ঘরে ঘরে পিঠা, পায়ের ইত্যাদি রান্না করা হয়। বাংলাদেশের মুসলিম জনগণের প্রধান ধর্মীয় উৎসব হলো ঈদ-উল-ফিতর এবং ঈদ-উল আজহা। হিন্দুদের প্রধান ধর্মীয় উৎসব হলো দুর্গাপূজা, স্বরস্বতী পূজা। গৌতম বুদ্ধের জন্মদিন উপলক্ষ্যে বৌদ্ধ ধর্মাবলম্বীরা বুদ্ধপূর্ণিমা পালন করে থাকে। খ্রিষ্টানরা ২৫শে ডিসেম্বর যিশু খ্রিষ্টের জন্মদিন বড়দিন হিসেবে পালন করে থাকে। এসব ধর্মীয় উৎসব ও অনুষ্ঠানের মাধ্যমে আমাদের সকলের মধ্যে সম্প্রীতি বৃদ্ধি পায়।

ক) অনুচ্ছেদ পড়ে যেসব সংগীত, নৃত্য ও উৎসবের নাম জেনেছি তার তালিকা করি-



সংগীত



নৃত্য



উৎসব

খ) শূন্যস্থানে উপযুক্ত শব্দ বসাই—

বাংলা নববর্ষ	বুদ্ধপূর্ণিমা	লালনগীতি	লোকনৃত্য
--------------	---------------	----------	----------

১. ফকির লালন শাহের গানকে ----- বলে।
২. একটি জনগোষ্ঠীর জীবনঘনিষ্ঠ নৃত্য হচ্ছে -----।
৩. বাংলাদেশের প্রধান সামাজিক উৎসব হচ্ছে -----।
৪. গৌতম বুদ্ধের জন্মদিন উপলক্ষ্যে পালন করা হয় -----।

গ) বাম পাশের শব্দ/বাক্যাংশের সাথে মিল রেখে ডান পাশের উপযুক্ত শব্দ/বাক্যাংশ দাগ টেনে মিল করি—

সাপুড়ে নাচ	নবান্ন উৎসব
ভাটিয়ালি	লোকনৃত্য
নতুন ফসল তোলা উৎসব	সংগীত
বড়দিন	উৎসব

ঘ) মনে করি আমি পহেলা বৈশাখ বা অন্য কোনো একটি উৎসব অনুষ্ঠানে অংশগ্রহণ করেছি। অনুষ্ঠানে আমি কী কী দেখেছি বা কী কী কাজ করেছি তার একটি তালিকা তৈরি করি।

উৎসব অনুষ্ঠানের নাম	০১	
	০২	
	০৩	
	০৪	

অনুশীলনী

ক. সঠিক উত্তরের পাশে টিক (✓) চিহ্ন দিই।

- জনসংখ্যার ভিত্তিতে বাংলা ভাষার স্থান কততম?
ক) ৩য় খ) ৪র্থ গ) ৫ম ঘ) ৬ষ্ঠ
- নারীদের ঐতিহ্যবাহী পোশাক কোনটি?
ক) শাড়ি খ) কামিজ গ) স্কার্ট ঘ) সালোয়ার

খ. বাম পাশের সাথে ডান পাশের মিল করি।

বাম পাশ	ডান পাশ
বাংলা	ছেলেদের পোশাক
পানতোয়া	ভাষা
কামিজ	ধর্মীয় অনুষ্ঠান
ঈদুল ফিতর	খাবার
লুঙ্গি	মেয়েদের পোশাক

গ. সংক্ষিপ্ত প্রশ্ন।

- সাংস্কৃতিক উপাদানগুলো কী কী?
- বিভিন্ন নৃ-গোষ্ঠীর কয়েকটি পোশাকের নাম লিখি।

ঘ. বর্ণনামূলক প্রশ্ন।

- আমাদের দেশে প্রচলিত সংগীত, নৃত্য ও উৎসবের একটি তালিকা তৈরি করি।
- আমি অংশগ্রহণ করেছি এমন একটি উৎসবের বর্ণনা লিখি।

অধ্যায় : ৬

মহাদেশ ও মহাসাগর

১ মহাদেশ

আমরা পৃথিবীতে বসবাস করি। পৃথিবী সৌরজগতের একটি গ্রহ। এটি দেখতে গোলাকার, তবে উত্তর ও দক্ষিণে কিছুটা চাপা। পৃথিবীর উপরিভাগে আছে স্থলভাগ ও জলভাগ। স্থলভাগ সমভূমি, মালভূমি, পাহাড়, পর্বত ও মরুভূমি নিয়ে গঠিত। পৃথিবীর চার ভাগের এক ভাগ স্থলভাগ।



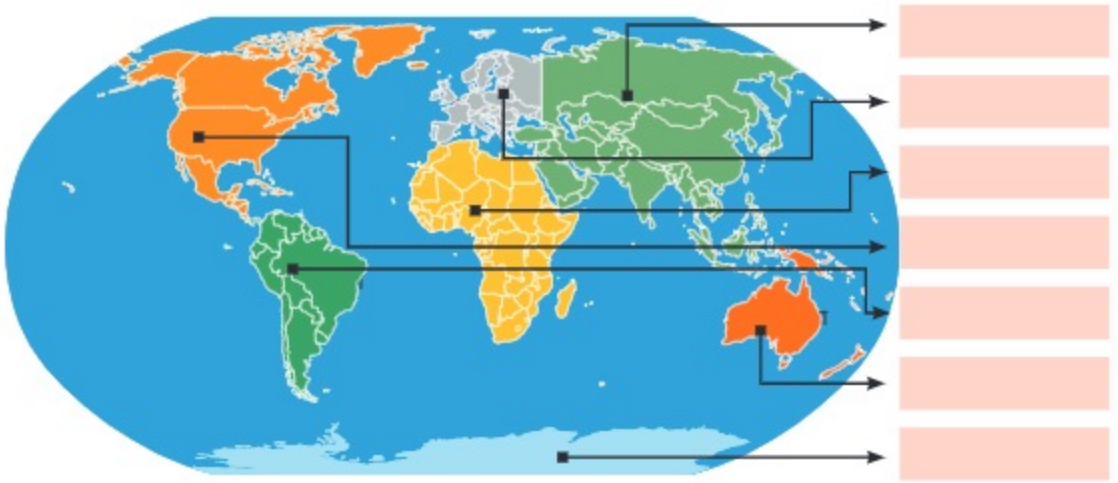
বিশ্ব মানচিত্রে মহাদেশ

পৃথিবীর স্থলভাগকে সাতটি মহাদেশে ভাগ করা হয়েছে। প্রতিটি মহাদেশে রয়েছে অনেক দেশ। সবচেয়ে বড়ো মহাদেশ হলো এশিয়া। সবচেয়ে ছোটো মহাদেশ হলো অস্ট্রেলিয়া/ওশেনিয়া।

ক) মানচিত্রে স্থলভাগ চিহ্নিত করি এবং পৃষ্ঠায় প্রদত্ত মানচিত্রে মহাদেশ খুঁজে বের করে নিচে লিখি-



খ) মানচিত্র দেখে মহাদেশের নাম লিখি-



গ) মহাদেশগুলো ভিন্ন ভিন্ন রং করি ও নাম লিখি-



২ মহাসাগর

পৃথিবীর চার ভাগের তিন ভাগ জল আর একভাগ স্থল। স্থলভাগের চারপাশে আছে বিশাল লবণাক্ত জলরাশি। এই লবণাক্ত জলরাশিই মহাসাগর। পৃথিবীতে মোট পাঁচটি মহাসাগর রয়েছে। প্রশান্ত মহাসাগর সবচেয়ে বড়ো এবং আর্কটিক মহাসাগর সবচেয়ে ছোটো।



বিশ্ব মানচিত্রে মহাসাগর

ক) মানচিত্রে জলভাগ চিহ্নিত করি এবং উপরের মানচিত্রে মহাসাগর খুঁজে বের করে নিচে লিখি—



খ) পূর্বের পৃষ্ঠার মানচিত্র পর্যবেক্ষণ করি ও নিচের ছকে তথ্য লিখি-

অবস্থান ও ধরন	মহাসাগরের নাম
এশিয়া ও ইউরোপের উপরে অবস্থিত মহাসাগর	
এশিয়ার নিচে অবস্থিত মহাসাগর	
দক্ষিণ আমেরিকার বামে অবস্থিত মহাসাগর	
সবচেয়ে বড়ো মহাসাগর	
সবচেয়ে ছোটো মহাসাগর	

গ) নিচে দেওয়া তালিকা থেকে মহাদেশ ও মহাসাগরের নাম খুঁজে বের করে ছকে তালিকা তৈরি করি-

এন্টার্কটিকা, প্রশান্ত, অস্ট্রেলিয়া, ভারত, আটলান্টিক, এশিয়া, আফ্রিকা, দক্ষিণ

মহাদেশ	মহাসাগর

ঘ) জলভাগ নীল রং করি এবং মহাসাগরগুলোর অবস্থান চিহ্নিত করে নাম লিখি-



৩ মহাদেশের ভৌগোলিক বৈচিত্র্য

পৃথিবীর মহাদেশগুলোর ভৌগোলিক বৈচিত্র্য :

এশিয়া মহাদেশ

- ◇ এশিয়া সবচেয়ে বড়ো মহাদেশ।
- ◇ পৃথিবীর উচ্চতম পর্বতশৃঙ্গ মাউন্ট এভারেস্ট এখানে অবস্থিত।



এশিয়া



মাউন্ট এভারেস্ট

আফ্রিকা মহাদেশ

- ◇ আফ্রিকা দ্বিতীয় বৃহত্তম মহাদেশ।
- ◇ পৃথিবীর সবচেয়ে বড়ো মরুভূমি সাহারা এখানে অবস্থিত।
- ◇ প্রাচীন সভ্যতা ও জীববৈচিত্র্যের জন্য আফ্রিকা বিখ্যাত।



আফ্রিকা



সাহারা মরুভূমি

উত্তর আমেরিকা মহাদেশ

- ◇ উত্তর আমেরিকা পৃথিবীর তৃতীয় বৃহত্তম মহাদেশ।
- ◇ এ মহাদেশের বরফ ঢাকা উত্তর মেরু অঞ্চলে এক্সিমোরা বাস করে। তাদের ঘর বরফে তৈরি।



উত্তর আমেরিকা



এক্সিমো

দক্ষিণ আমেরিকা মহাদেশ

- ◇ দক্ষিণ আমেরিকা পৃথিবীর চতুর্থ বৃহত্তম মহাদেশ।
- ◇ পৃথিবীর বৃহদাকার সাপ এনাকোন্ডা এখানে বাস করে।



দক্ষিণ আমেরিকা



এনাকোন্ডা

এন্টার্কটিকা মহাদেশ

- ◇ আয়তনে মহাদেশগুলোর মধ্যে এন্টার্কটিকা পঞ্চম।
- ◇ এন্টার্কটিকা মহাদেশ সারা বছর বরফে ঢাকা থাকে।
- ◇ পেঙ্গুইন এ মহাদেশের বিখ্যাত পাখি।



এন্টার্কটিকা



পেঙ্গুইন

ইউরোপ মহাদেশ

- ◇ মহাদেশগুলোর মধ্যে ইউরোপ মহাদেশ আয়তনের দিক দিয়ে ষষ্ঠ।
- ◇ পৃথিবীর সবচেয়ে ছোটো দেশ ভ্যাটিকান সিটি এ মহাদেশে অবস্থিত।
- ◇ ইউরোপের উত্তর অঞ্চলে ঠান্ডা অনেক বেশি।



ইউরোপ



স্কিয়ার

অস্ট্রেলিয়া/ওশেনিয়া মহাদেশ

- ◇ সবচেয়ে ছোটো মহাদেশ হলো অস্ট্রেলিয়া/ওশেনিয়া।
- ◇ এটি দ্বীপ মহাদেশ নামেও পরিচিত।
- ◇ ক্যাঙ্গারু এ মহাদেশের পরিচয় বহন করে।



অস্ট্রেলিয়া/ওশেনিয়া



ক্যাঙ্গারু

ক) উপরের বিষয়বস্তু পড়ি ও আয়তন অনুযায়ী মহাদেশগুলো ছোটো থেকে বড়ো ক্রমানুসারে সাজাই—

Blank space for writing the answer to the question above.

খ) ভৌগোলিক বৈশিষ্ট্য অনুযায়ী নিচের ছকে মহাদেশের নাম লিখি—

ভৌগোলিক বৈশিষ্ট্য	মহাদেশের নাম
উত্তর অঞ্চলে ঠান্ডা অনেক বেশি	
পৃথিবীর উচ্চতম পর্বতশৃঙ্গ মাউন্ট এভারেস্ট	
ক্যান্সারের আবাসভূমি	
এনাকোল্ডা পাওয়া যায়	
পেঙ্গুইনের বসবাস	
এক্সিমোরা বাস করে	
সাহারা মরুভূমি	

8 এশিয়ার মানচিত্রে বাংলাদেশ

এশিয়া পৃথিবীর বৃহত্তম মহাদেশ। বাংলাদেশ এশিয়া মহাদেশে অবস্থিত। মানচিত্রে এশিয়া মহাদেশের নিচের দিকে সবুজ রং করা একটি দেশ দেখতে পাচ্ছি। দেশটি হলো আমাদের প্রিয় মাতৃভূমি বাংলাদেশ।

ক) এশিয়ার মানচিত্রে বাংলাদেশকে চিহ্নিত করি—



এশিয়ার মানচিত্র

খ) মানচিত্র দেখে বাংলাদেশের কোন দিকে কোন দেশ ও কোন জলভাগ অবস্থিত তা নিচের ছকে লিখি—

	দিক	দেশ ও জলভাগের নাম
বাংলাদেশ	উপর দিক (উত্তর)	
	নিচের দিক (দক্ষিণ)	
	ডান দিক (পূর্ব)	
	বাম দিক (পশ্চিম)	

গ) এশিয়ার মানচিত্রে বাংলাদেশের অবস্থান চিহ্নিত করি ও রং করি-



এশিয়ার মানচিত্র



অনুশীলন

ক. সঠিক উত্তরের পাশে টিক (✓) চিহ্ন দিই।

- ১। পৃথিবীর স্থলভাগকে কয়টি মহাদেশে ভাগ করা হয়েছে?
ক) ৪ খ) ৫ গ) ৬ ঘ) ৭
- ২। পৃথিবীর সবচেয়ে বড়ো মহাদেশ কোনটি?
ক) এশিয়া খ) ইউরোপ গ) আফ্রিকা ঘ) ওশেনিয়া
- ৩। পৃথিবীর সবচেয়ে ছোট মহাদেশ কোনটি?
ক) এশিয়া খ) ইউরোপ গ) আফ্রিকা ঘ) ওশেনিয়া

খ. সঠিক শব্দ দিয়ে শূন্যস্থান পূরণ করি।

১. পৃথিবী সৌরজগতের একটি ।
২. পৃথিবীর ভাগ জল ।
৩. পৃথিবীর স্থলভাগের চারপাশে আছে বিশাল জলরাশি ।
৪. পৃথিবীর সবচেয়ে ছোট দেশ ।
৫. বাংলাদেশ মহাদেশে অবস্থিত ।

গ. বাম পাশের সাথে ডান পাশের মিল করি।

বাম পাশ	ডান পাশ
এনাকোভা	এন্টার্কটিকা
এস্কিমো	অস্ট্রেলিয়া
পেঙ্গুইন	দক্ষিণ আমেরিকা
ক্যান্সার	উত্তর আমেরিকা

ঘ. সংক্ষিপ্ত প্রশ্ন।

১. পৃথিবীর কতভাগ জল আর কতভাগ স্থল?
২. সবচেয়ে বড়ো এবং সবচেয়ে ছোট মহাসাগরের নাম লিখি।
৩. দ্বীপ মহাদেশ কোনটি?

ঙ. বর্ণনামূলক প্রশ্ন।

১. যেকোনো দুইটি মহাদেশের ভৌগোলিক বৈচিত্র্য লিখি।
২. বাংলাদেশের উত্তর, দক্ষিণ, পূর্ব ও পশ্চিম দিকে অবস্থিত দেশ ও জলভাগের নাম লিখি।

পরিবার ও বিদ্যালয়ে শিশুর ভূমিকা

১ পরিবারের সদস্যদের প্রতি আমার দায়িত্ব ও কর্তব্য



ছবি-১



ছবি-২

ক) উপরের ছবি দুটি পর্যবেক্ষণ করে নিচের প্রশ্নগুলোর উত্তর বলি—

- (১) ১ নং ছবিতে কে, কী করছে?
- (২) কেন করছে?
- (৩) ২ নং ছবিতে কে, কী করছে?
- (৪) কেন করছে?

সাধারণত মা, বাবা ও ভাইবোন নিয়ে পরিবার গঠিত হয়। এছাড়াও যৌথ পরিবারে চাচা, চাচি, ফুপু এবং চাচাতো ভাইবোন থাকে। অনেক পরিবারে দাদা, দাদি কিংবা অন্য কোনো বয়োজ্যেষ্ঠ ব্যক্তিও রয়েছেন। পরিবারে ভাইবোনদের মধ্যে কেউ আমাদের চেয়ে ছোটো, আবার কেউ বড়ো। পরিবারের বড়ো সদস্যগণ আমাদেরকে লালনপালন করেন, আদর ল্লেখ করেন এবং যত্ন নেন। আবার পরিবারের ছোটো সদস্যরা আমাদেরকে ভালোবাসে, সম্মান করে।

পরিবারের ছোটো এবং বড়ো সকলের কিছু দায়িত্ব ও কর্তব্য রয়েছে। পরিবারের বড়ো সদস্যগণের আদেশ ও নির্দেশ আমরা মেনে চলব। তাঁদেরকে সম্মান ও শ্রদ্ধা করব। পরিবারের কাজে তাঁদেরকে সাহায্য করব। পরিবারের ছোটোদেরকে আমরা ভালোবাসব ও ল্লেখ করব। তাদেরকে খেতে সাহায্য করব। খেলতে নিয়ে যাব। পরিবারের কোনো সদস্য অসুস্থ হলে আমরা তাদের সেবা করব।

খ) উপরের পাঠ্যাংশটুকু পড়ে পরিবারের ছোটদের প্রতি আমার দায়িত্ব ও কর্তব্য নিচের ছকে লিখি-

ছোটদের প্রতি আমার দায়িত্ব ও কর্তব্য

১.	
২.	
৩.	

গ) উপরের পাঠ্যাংশটুকু পড়ে পরিবারের বড়দের প্রতি আমার দায়িত্ব ও কর্তব্য নিচের ছকে লিখি-

বড়দের প্রতি আমার দায়িত্ব ও কর্তব্য

১.	
২.	
৩.	

ঘ) পরিবারের সদস্যদের প্রতি আমি কেন দায়িত্ব পালন করতে চাই, তা লিখি-

১.	
২.	
৩.	

২

প্রবীণদের প্রতি দায়িত্ব ও কর্তব্য



ক) উপরের ছবিটি পর্যবেক্ষণ করে নিচের প্রশ্নগুলোর উত্তর বলি-

- (১) ছবিতে বৃদ্ধা মহিলা কী করছেন?
- (২) মেয়েশিশুটি কী করছে?
- (৩) ছেলেশিশুটি কী করছে?
- (৪) বৃদ্ধা মহিলার সাথে ছেলে এবং মেয়েটির সম্পর্ক কী হতে পারে?

অনেক পরিবারে দাদা-দাদি, নানা-নানি কিংবা অন্য কোনো বয়স্ক ব্যক্তি রয়েছেন। তাঁরা আমাদের অনেক ল্লেখ করেন এবং আমাদের কল্যাণ কামনা করেন। তাই আমরা তাঁদের নিকট কৃতজ্ঞ। তাঁদের কেউ কেউ বয়সের কারণে অনেক দুর্বল। তাঁরা স্বাধীনভাবে চলাফেরা করতে পারেন না। অনেকে অন্যের সাহায্য ছাড়া নিজের কাজকর্মগুলোও করতে পারেন না। তাঁরা অনেক সময় একা হয়ে যান। তাই তাঁদেরকে ভালোবাসতে হবে, সঙ্গ দিতে হবে, গল্প করতে হবে এবং বেড়াতে নিয়ে যেতে হবে। প্রয়োজনীয় সব ধরনের সাহায্য-সহযোগিতা করতে হবে এবং তাঁদের উপদেশ মেনে চলতে হবে।

খ) উপরের পাঠ্যাংশটুকু পড়ে আমার পরিবারের প্রবীণ সদস্যদের প্রয়োজনগুলো লিখি-

১.	
২.	
৩.	

গ) আমি আমার পরিবারের প্রবীণ সদস্যদের প্রতি কী কী দায়িত্ব পালন করতে চাই, তা নিচের ছকে লিখি-

১.	
২.	
৩.	

ঘ) পরিবারের প্রবীণ সদস্যদের প্রতি আমাদের কেন দায়িত্ব পালন করা উচিত তা নিচের ছকে লিখি-

১.	
২.	
৩.	

৩ পরিবারের সুরক্ষা



ক) উপরের ছবিটি পর্যবেক্ষণ করে কী দুর্ঘটনা ঘটেছে তা বলি। পরিবারে আর কী কী নিরাপত্তা ঝুঁকি তৈরি হতে পারে তা নিচের ছকে লিখি-

ক্রমিক নং	নিরাপত্তা ঝুঁকি

পরিবার আমাদের সবচেয়ে নিরাপদ আশ্রয়স্থল। তবে পরিবারের কেউ হঠাৎ অসুস্থ হয়ে পড়তে পারে। দুর্ঘটনায় পড়তে পারে। ঘরে আগুন লেগে যেতে পারে। বাড়িতে চুরি বা ডাকাতিও হতে পারে। কেউ মারাত্মকভাবে আহত হতে পারে।

এগুলো থেকে রক্ষার জন্য বিভিন্ন সেবাদানকারী সংস্থা রয়েছে, যেমন- হাসপাতাল, ফায়ার ব্রিগেড, পুলিশ বাহিনী ইত্যাদি। পরিবারের কেউ অসুস্থ হলে তাকে হাসপাতালে নিয়ে চিকিৎসা দেওয়া হয়। বাড়িতে আগুন লাগলে ফায়ার ব্রিগেড তা নেভাতে সাহায্য করে। পুলিশ চোর-ডাকাত ধরে ও আইন-শৃঙ্খলা রক্ষা করে।

পরিবার ও বিদ্যালয়ে শিশুর ভূমিকা

আমাদের প্রতিবেশীরা সবচেয়ে কাছে থাকেন। তাই তাঁরা যেকোনো বিপদ-আপদে সবার আগে সাহায্য করার জন্য এগিয়ে আসেন। বিপদে তাঁদেরকে সবার আগে জানাতে হয়। কোনো দুর্ঘটনা ঘটলে সাহায্যের জন্য তা নির্দিষ্ট প্রতিষ্ঠানকে জানাতে হয়। এজন্য কোন প্রতিষ্ঠান কোন সেবা দেয় তা আমাদের জানা প্রয়োজন। তাদের সাহায্য গ্রহণের জন্য দ্রুত যোগাযোগ করার কিছু হেল্পলাইন/হটলাইন ফোন নম্বর আছে। ফায়ার সার্ভিস, অ্যাম্বুলেন্স এবং পুলিশি সেবা পেতে জাতীয় হেল্প ডেস্ক হিসেবে '৯৯৯' নম্বর চালু করা হয়েছে। এ নম্বরে যেকোনো দিন যেকোনো সময় বিনা খরচে ফোন করা যায়। ফোন করার সময় বাড়ির ঠিকানা এবং অন্যান্য তথ্য দিতে হয়। ফোন করা ছাড়াও নির্দিষ্ট প্রতিষ্ঠানের অফিসে সরাসরি গিয়ে যোগাযোগ করা যায়।



খ) উপরের ছবিগুলো পর্যবেক্ষণ করে পরিবারের সুরক্ষার জন্য যেসব প্রতিষ্ঠান থেকে সেবা পেতে পারি তা নিচের ছকে লিখি—

ক্রমিক নং	সেবাদানকারী প্রতিষ্ঠানের নাম	কী ধরনের সেবা প্রদান করে
১		
২		
৩		

গ) সেবাদানকারী প্রতিষ্ঠানের সেবা পাওয়ার জন্য কী করা যায় তা নিচের ছকে লিখি—

ক্রমিক নং	যোগাযোগের উপায়	কী তথ্য জানাব
১		
২		

ঘ) বাড়িতে কেউ হঠাৎ অসুস্থ হয়ে পড়লে প্রতিবেশীর সাহায্য পাওয়ার জন্য করণীয় কাজ অভিনয় করে দেখাই।

৪ পরিচ্ছন্নতা রক্ষায় আমি



ক) উপরের ছবি দুটি পর্যবেক্ষণ করে নিচের প্রশ্নগুলোর উত্তর বলি-

- (১) এগুলো কীসের ছবি?
- (২) এখানে কাদের দেখা যাচ্ছে?
- (৩) তারা কী করছে?
- (৪) এর ফলে কী হতে পারে?

পরিষ্কার-পরিচ্ছন্ন পরিবেশ সবার পছন্দ। পরিচ্ছন্ন পরিবেশ দেখতে সুন্দর, তাতে মশা-মাছি জন্মে না, ধুলোবালি জমে না, রোগজীবাণু জন্মে না, দুর্গন্ধ ছড়ায় না। এজন্য পরিচ্ছন্ন পরিবেশ স্বাস্থ্যকর।

আমাদের নিজ বাড়ির আশপাশে অবস্থিত বাড়িঘর, পাড়া-প্রতিবেশী, গাছপালা, রাস্তাঘাট, খেলার মাঠ ইত্যাদি নিয়ে গঠিত হয় আমাদের নিকট পরিবেশ। দিনের একটা বড়ো সময় আমরা বিদ্যালয়ে অবস্থান করি। তাই নিকট পরিবেশ এবং বিদ্যালয়ের পরিচ্ছন্নতা আমাদের জীবনে খুব গুরুত্বপূর্ণ।

আমরা রাস্তাঘাট, খেলার মাঠ ইত্যাদি স্থানে ঠোঙা, কাগজ, চিপসের প্যাকেট, চকোলেটের প্যাকেট ইত্যাদি না ফেলে ডাস্টবিন বা ময়লার বুড়িতে ফেলব। ডাস্টবিন না থাকলে বড়োদের সহায়তায় ডাস্টবিন স্থাপনের ব্যবস্থা করব। বিদ্যালয়ের করিডোর, আঙিনা, মাঠ ইত্যাদি স্থানে কাগজের টুকরা, পলিথিন বা এ জাতীয় কিছু পড়ে থাকতে দেখলে তা কুড়িয়ে ময়লার বুড়িতে ফেলব। বিদ্যালয়ের ওয়াশরুম ব্যবহারের পর পানি ঢেলে আমরা তা পরিচ্ছন্ন রাখব।

নিকট পরিবেশে এবং বিদ্যালয়ের যেখানে-সেখানে আমরা কফ-থুথু ফেলব না। পরিবেশ পরিচ্ছন্ন করা ও পরিচ্ছন্ন রাখা সমান গুরুত্বপূর্ণ।

খ) আমার নিকট পরিবেশ পরিচ্ছন্ন রাখার জন্য আমার করণীয় নিচের ছকে লিখি—

ক্রমিক নং	করণীয়	কীভাবে করা হবে?
১	আগাছা পরিষ্কার করা	ছুটির দিনে বড়োদের সহায়তায় বন্ধুবান্ধব মিলে আগাছা কেটে/উপড়ে ফেলে এক জায়গায় জড়ো করা
২		
৩		
৪		

গ) আমার বিদ্যালয় পরিচ্ছন্ন রাখার জন্য করণীয় নিচের ছকে লিখি—

ক্রমিক নং	করণীয়	কীভাবে করা হবে?
১	আগাছা পরিষ্কার করা	শিক্ষকের সহায়তায় বন্ধুবান্ধব মিলে আগাছা কেটে/উপড়ে ফেলে এক জায়গায় জড়ো করা
২		
৩		
৪		

ঘ) শিক্ষকের সহায়তায় একটি নির্দিষ্ট দিনে বিদ্যালয়ে পরিচ্ছন্নতার ব্যবহারিক কাজ করি।

অনুশীলন

ক. সঠিক উত্তরের পাশে টিক (✓) চিহ্ন দিই।

- ১। বাড়িতে কোনো বিপদ হলে কারা সবার আগে এগিয়ে আসেন?
ক) শিক্ষক খ) প্রতিবেশী গ) আত্মীয় ঘ) সহপাঠী
- ২। সাহায্য পেতে দ্রুত যোগাযোগ করার জন্য কোন নম্বরটি চালু রয়েছে?
ক) ১১১ খ) ৩৩৩ গ) ৭৭৭ ঘ) ৯৯৯
- ৩। বাদামের খোসা, চিপসের খালি প্যাকেট, ঠোঁক ইত্যাদি কোথায় ফেলব?
ক) টয়লেটে খ) ড্রেনে গ) ডাস্টবিনে ঘ) মাঠে

খ. সঠিক শব্দ দিয়ে শূন্যস্থান পূরণ করি।

১. পরিবার আমাদের সবচেয়ে আশ্রয়স্থল।
২. পরিচ্ছন্ন স্বাস্থ্যকর।
৩. পরিবারের কেউ অসুস্থ হলে করব।
৪. পরিবারের সদস্যরা আমাদের অনেক স্নেহ করেন।

গ. বাম পাশের সাথে ডান পাশের মিল করি।

বাম পাশ	ডান পাশ
ফায়ার সার্ভিস	অসুস্থ ব্যক্তিকে হাসপাতালে নিতে সহায়তা করে
অ্যাম্বুলেন্স	আইনী সহায়তা প্রদান করে
পুলিশি সেবা	আগুন নেভাতে সহায়তা করে

ঘ. সংক্ষিপ্ত প্রশ্ন।

১. পরিবার কীভাবে গঠিত হয়?
২. ছোটদের সাথে আমরা কেমন ব্যবহার করব?
৩. সেবাদানকারী প্রতিষ্ঠানগুলোর নাম লিখি।

ঙ. বর্ণনামূলক প্রশ্ন।

১. পরিবারের প্রবীণ সদস্যদের প্রতি দায়িত্ব পালন করা উচিত কেন?
২. বিদ্যালয় পরিষ্কার-পরিচ্ছন্ন রাখার জন্য নিচের ছক অনুযায়ী একটি পরিকল্পনা তৈরি করি।

কী করব	কখন করব	কারা করবে

অধ্যায় : ৮
শিশু অধিকার ও নিরাপত্তা

১ শিশু অধিকার



শিশু হিসেবে এ সকল সুযোগ-সুবিধা তাদের পাওয়ার কথা। এগুলোই তাদের অধিকার।

ক) ইহান ও নুসাফার সুযোগ-সুবিধার কথাগুলো পড়ি এবং তাদের অধিকারগুলোর তালিকা করি-

ইহান ও নুসাফার অধিকার

১	
২	
৩	
৪	
৫	
৬	

পৃথিবীর সকল দেশের শিশুদের কতগুলো অধিকার আছে। শিশুদের প্রধান অধিকারগুলো হলো :

- ◇ নাম পাওয়ার অধিকার
- ◇ জন্ম নিবন্ধনের অধিকার
- ◇ শিক্ষার অধিকার
- ◇ স্নেহ ও ভালোবাসা পাওয়ার অধিকার
- ◇ পুষ্টি ও চিকিৎসার অধিকার
- ◇ মেয়ে ও ছেলে শিশুর সমান সুযোগ-সুবিধা পাওয়ার অধিকার
- ◇ খেলাধুলা, বিনোদন ও বিশ্রামের অধিকার
- ◇ নিরাপত্তা লাভের অধিকার
- ◇ কথা বলার অধিকার

শিশুদের সুন্দর ও সুস্থভাবে বেড়ে ওঠার জন্য এ অধিকারগুলো পূরণ হওয়া খুবই প্রয়োজন।

খ) শিশু হিসেবে বাড়িতে আমি কোন কোন অধিকার ভোগ করি তা লিখি-

নাম পাওয়ার অধিকার

বাড়িতে আমার অধিকার

Blank boxes for writing rights in the home.

গ) শিশু হিসেবে বিদ্যালয়ে আমি কোন কোন অধিকার ভোগ করি তা লিখি-

শিক্ষার অধিকার

বিদ্যালয়ে আমার অধিকার

Blank boxes for writing rights in the school.

২ শিশু অধিকার অর্জনে ব্যক্তি ও সংস্থা



ক) ছবিগুলো পর্যবেক্ষণ করি এবং নিচের প্রশ্নগুলোর উত্তর লিখি-

১ নং ছবি

কোথায় গিয়েছেন?

.....

কে শিশুকে নিয়ে
গিয়েছেন?

.....

কেন নিয়ে গিয়েছেন?

.....

২ নং ছবি

কাদের দেখা যাচ্ছে?

.....

তারা কী করছে?

.....

.....

.....

৩ নং ছবি

শিশুরা কী করছে?

.....

কোথায় খেলছে?

.....

কে খেলার ব্যবস্থা
করেছে?

.....

.....

৪ নং ছবি

শিশুকে কী খাওয়ানো
হচ্ছে?

.....

কারা টিকা
খাওয়াচ্ছেন?

.....

কোন স্থানে খাওয়ানো
হচ্ছে?

.....

খ) নিচের অংশটুকু পড়ি। শিশু ইহান ও নুসাফার অধিকার পাওয়ার জন্য বাবা-মা ও অন্যান্য প্রতিষ্ঠানের ভূমিকা ছকে লিখি-

সোহরাব হোসেন ও সুবর্ণা আজারের এক ছেলে ও এক মেয়ে। তাঁরা জন্মের পরে ছেলের নাম ইহান ও মেয়ের নাম নুসাফা রাখেন। মা-বাবা ইহান ও নুসাফাকে শিশুকালে বাড়ির পাশের স্বাস্থ্য কেন্দ্রে নিয়ে টিকা দেন। পাঁচ বছর বয়সে ইহান ও নুসাফাকে বাবা-মা ভর্তির জন্য স্কুলে নিয়ে যান। স্কুলের শিক্ষক তাদেরকে ভর্তি করান। স্কুলে তারা পড়াশোনার পাশাপাশি খেলাধুলাও করতে পারে। বাবা-মা দুজনকে খুব আদর করেন। বাড়িতে তারা পড়ার সময় পড়ে, খেলার সময় খেলে ও ঘুমানোর সময় ঘুমায়। বাবা-মা তাদের পুষ্টিকর খাবার দেন। একদিন ইহান হঠাৎ অসুস্থ হয়ে পড়ে। বাবা-মা তাকে হাসপাতালে নিয়ে যান। হাসপাতাল থেকে তাকে চিকিৎসা ও ওষুধ দেওয়া হয়। সে সুস্থ হয়। একদিন স্কুল থেকে বাড়ি যাওয়ার পথে অপরিচিত এক লোক তাদেরকে চকলেট দিতে চায়। তারা নিতে চায় না। কিন্তু লোকটি আরও লোভ দেখায়। একটু দূরে থাকা একজন পুলিশ সদস্য বিষয়টি খেয়াল করেন। তিনি দ্রুত সেখানে আসেন। অপরিচিত লোকটি দৌড়ে পালিয়ে যায়।

ছক

ক্রমিক নং	অধিকার	ব্যক্তি/সংস্থা	ব্যক্তি/সংস্থার ভূমিকা
১.	শিক্ষা	অভিভাবক	ভর্তির জন্য স্কুলে নিয়ে যান
		শিক্ষাপ্রতিষ্ঠান/স্কুল	স্কুলে ভর্তি করান, পড়াশোনা করান, খেলাধুলার সুযোগ দেন

শিশু হিসেবে আমাদের যে অধিকারগুলো আছে তা পাওয়ার জন্য মা-বাবা, পরিবারের অন্যান্য সদস্য ও বিভিন্ন প্রতিষ্ঠান ভূমিকা পালন করেন :

মা-বাবা ও পরিবারের সদস্যদের ভূমিকা

- ◇ ছেলে ও মেয়ের নাম রাখা
- ◇ বিদ্যালয়ে ভর্তি করানো
- ◇ পুষ্টি, পোশাক ও চিকিৎসার ব্যবস্থা করা
- ◇ খেলাধুলা ও বিশ্রামের সুযোগ দেওয়া
- ◇ দ্বেহ-ভালোবাসা দিয়ে লালনপালন করা
- ◇ মতপ্রকাশের সুযোগ দেওয়া
- ◇ নিরাপত্তা দিয়ে নিজের কাছে রাখা
- ◇ ছেলে ও মেয়েকে সমান সুযোগ-সুবিধা দেওয়া

বিভিন্ন সংস্থার ভূমিকা

শিক্ষাপ্রতিষ্ঠান	হাসপাতাল	পুলিশ বাহিনী
<ul style="list-style-type: none"> ◇ শিশুর নিরাপত্তা দেয়া ◇ স্বাস্থ্য সুরক্ষার ব্যবস্থা ◇ ছেলে ও মেয়ের সমান সুযোগ-সুবিধা দেওয়া ◇ শিশু ভর্তির ব্যবস্থা করে শিক্ষার জন্য প্রয়োজনীয় ব্যবস্থা গ্রহণ 	<ul style="list-style-type: none"> ◇ চিকিৎসা সেবা প্রদান 	<ul style="list-style-type: none"> ◇ বাড়ি ও বিদ্যালয়ের বাইরে শিশুর নিরাপত্তা বিধান করা

৩ এসো নিরাপদে পথ চলি



ক) ছবিটি পর্যবেক্ষণ করি ও নিচের প্রশ্নগুলোর উত্তর খুঁজে বের করি-

লোকজন কী করছে?

কীভাবে রাস্তা পার হচ্ছে?

এভাবে পার হলে অসুবিধা কী?

বাংলাদেশে প্রতিবছর অনেক সড়ক দুর্ঘটনা ঘটে। এসব দুর্ঘটনায় অনেক মানুষ আহত ও নিহত হন। এদের মধ্যে অনেক শিশুও রয়েছে। দুর্ঘটনায় আহত অনেক শিশুকে পঙ্গু হয়ে সারাজীবন কষ্ট ভোগ করতে হয়। শিশু ও অভিভাবকের সড়ক চলাচলের নিয়ম সম্পর্কে ধারণার অভাব এবং গাড়িচালকের অসচেতনতা সড়ক দুর্ঘটনার অন্যতম কারণ।

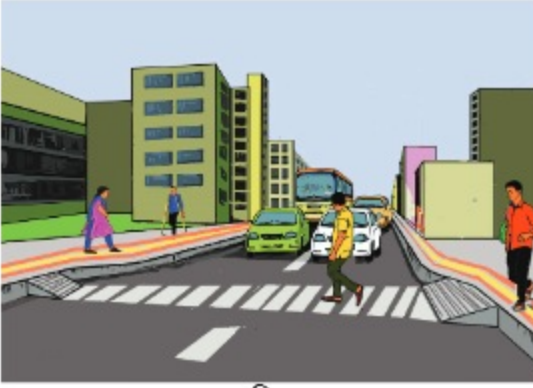
সড়কে বিভিন্ন ধরনের যানবাহন চলাচল করে। যানবাহনের পাশাপাশি মানুষও চলাচল করে। এজন্য অনেক সময় দুর্ঘটনা ঘটে।

ছোটোরা সড়কে বা রাস্তায় বের হলে পিতা-মাতা বা অভিভাবকের হাত ধরে থাকতে হবে। কখনোই একা রাস্তায় বের হওয়া যাবে না। যেখানে জেব্রা ক্রসিং বা ফুটওভার ব্রিজ আছে, সেখান দিয়ে রাস্তা পার হতে হবে। আর যেখানে জেব্রা ক্রসিং নেই, সে সকল রাস্তায় ডানে ও বামে তাকিয়ে সাবধানে রাস্তা পার হতে হবে।

আমি এখানে দাঁড়িয়ে আছি। সবুজ চিহ্নিত স্থানে যেতে চাই.....



খ) উপরের রাস্তার চিত্রে আমি নিয়ম মেনে কোন দুইভাবে সবুজ চিহ্নিত স্থানে যাব, তা কলম দিয়ে দাগ টেনে দেখাই—



ছবি-১



ছবি-২



ছবি-১



ছবি-২

ঘ) উপরের চিত্র দুটিতে পথচারী রাস্তায় চলাচল করছে। আমি কোন নিয়ম অনুসরণ করে রাস্তায় চলাচল করব? ১নং না ২নং ছবি? কেন করব?

.....

.....

.....

অনুশীলন

ক. সঠিক উত্তরের পাশে টিক (✓) চিহ্ন দিই।

১। রাস্তায় জেব্রা ক্রসিং কেন দেওয়া হয়?

ক) পথচারী পারাপারে জন্য খ) সৌন্দর্য বৃদ্ধির জন্য গ) গাড়ি থামানোর জন্য ঘ) গাড়ি ধীরে চলার জন্য

২। শিশুর পুষ্টি, পোশাক ও চিকিৎসার ব্যবস্থা করা কার দায়িত্ব?

ক) ডাক্তারের খ) শিক্ষকের গ) অভিভাবকের ঘ) প্রতিবেশীর

৩) কোনো অপরিচিত লোক আমাকে কিছু দিতে চাইলে কী করব ?

ক) নেব না খ) নিয়ে নেব গ) পরে দিতে বলব ঘ) লুকিয়ে নেব

খ. বাম পাশের সাথে ডান পাশের মিল করি।

বাম পাশ	ডান পাশ
অভিভাবক	চিকিৎসার অধিকার
শিক্ষাপ্রতিষ্ঠান	নাম পাওয়ার অধিকার
হাসপাতাল	নিরাপত্তা লাভের অধিকার
পুলিশ বাহিনী	শিক্ষার অধিকার

গ. সংক্ষিপ্ত প্রশ্ন।

- শিশু অধিকার অর্জনে সাহায্য করে এমন দুইটি প্রতিষ্ঠানের নাম লিখি।
- বিদ্যালয়ে পূরণ হয় এমন দুইটি অধিকার লিখি।
- বিশ্ব শিশু দিবস কত তারিখে পালন করা হয়?
- রাস্তায় জেব্রাক্রসিং ও ফুট ওভার ব্রিজ না থাকলে কীভাবে রাস্তা পার হব?
- সড়ক দুর্ঘটনার দুইটি কারণ লিখি।

নৈতিক ও মানবিক গুণ

১ ন্যায় ও অন্যায় কাজ

আমি কি এখানে
তোমাদের সাথে
বসতে পারি?

আমি কি তোমাদের
সাথে বসতে পারি?

না, এখানে বসা যাবে
না। তুমি অন্য বেঞ্চে
বসো।

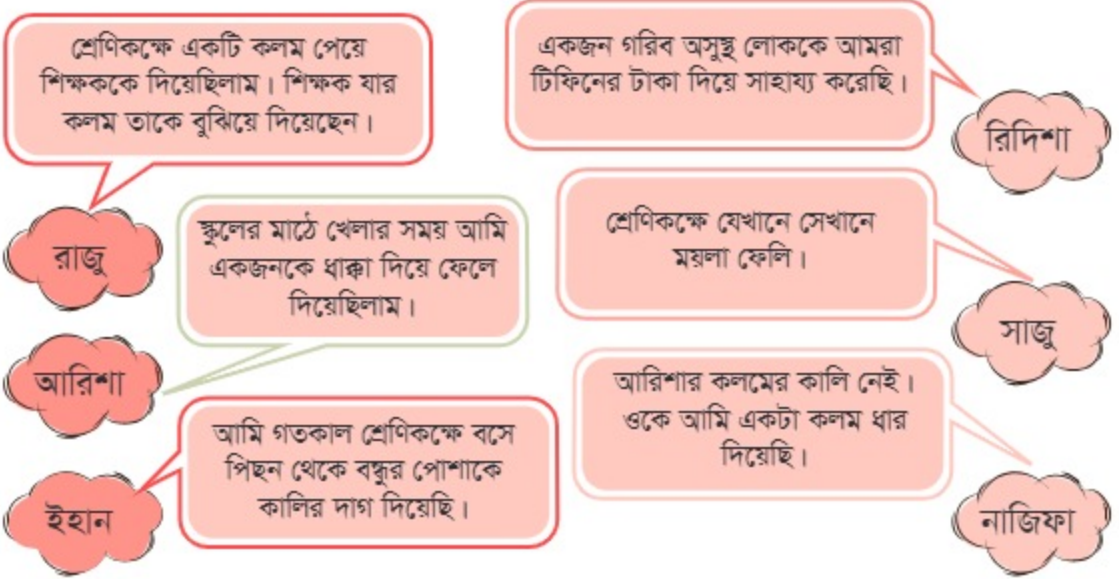
হ্যাঁ, অবশ্যই। তুমি
এখানে বসো।



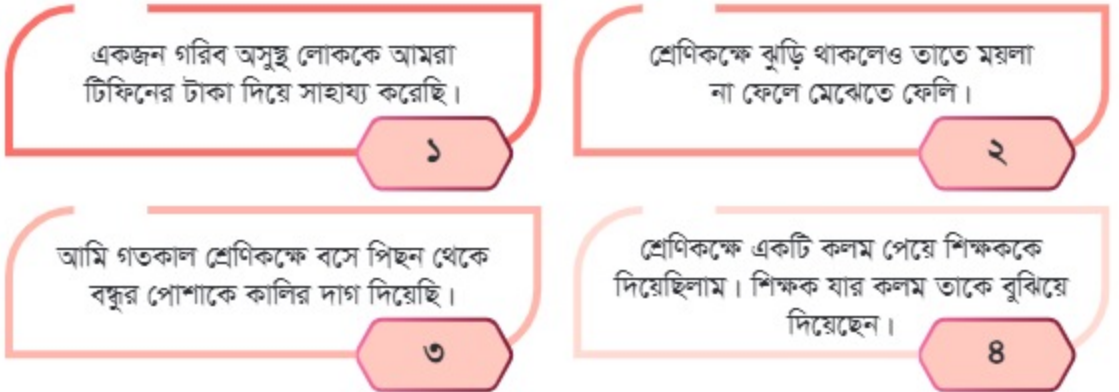
ক) উপরের ছবি দুটি দেখি ও কথাগুলো পড়ি। কোনটি ন্যায় কাজ এবং কেন তা বলি—

.....

.....



খ) রাজু, রিদিশা, আরিশা, সাজু, ইহান ও নাজিফার কথাগুলো পড়ি এবং ন্যায় ও অন্যায় কাজগুলো চিহ্নিত করি-



গ) উপরের অন্যায় কাজের কথাগুলোকে ন্যায় কাজের কথায় পরিবর্তন করি-

- ◇
- ◇

যে কাজগুলো
ভালো ও মানুষের
জন্য কল্যাণকর,
সেগুলোই ন্যায়
কাজ।

সত্য কথা বলা, সৎপথে
চলা, সৎ ও আদর্শ বন্ধু
বেছে নেওয়া সত্যবাদীর
পক্ষে কথা বলা,
মিথ্যাবাদীর পক্ষে না নেওয়া
ইত্যাদি হলো ন্যায় কাজ।

মিথ্যা বলা, অন্যায়কে প্রশ্রয়
দেওয়া, অসৎপথে চলা,
অন্যায়ের প্রতিবাদ না করা,
বড়োদের অবাধ্য হওয়া,
অন্যকে অকারণে বিরক্ত
করা ইত্যাদি অন্যায় কাজ।

যে কাজগুলো
মানুষের জন্য
ভালো নয় ও মানুষের
কল্যাণ করে না,
সেগুলোই অন্যায়
কাজ।

ঘ) আমার দেখা ৩টি ন্যায় কাজ ও ৩টি অন্যায় কাজ নিচের ছকে লিখি-

ন্যায় কাজ	অন্যায় কাজ
১.	১.
২.	২.
৩.	৩.

২ ভালো কাজের গুরুত্ব

আমি আজ স্কুলের মাঠে কিছু টাকা কুড়িয়ে পেয়ে প্রধান শিক্ষক স্যারের কাছে জমা দিয়েছি।

সাজু

আমার বন্ধু আজ স্কুলে টিফিন নিয়ে আসেনি। আমি আমার টিফিন তার সাথে ভাগ করে খেয়েছি।

নায়রা

আমি গতকাল ক্লাসে আমার পাশে বসা বন্ধুকে না বলে তার বইয়ে দাগ দিয়েছি।

রাজু

মা নিষেধ করেছিল; তবুও আজ আমি খোলা আচার কিনে খেয়েছি।

নুহা

সাজু ও নায়রা দুজনে কথা বলছে

রাজু ও নুহা দুজনে কথা বলছে

ক) উপরের কথোপকথন পড়ি ও নিচের প্রশ্নগুলোর উত্তর দিই—

- (১) কোন বন্ধুরা ভালো কাজ করেছে?
- (২) এগুলো কেন ভালো কাজ?
- (৩) কোন বন্ধুরা খারাপ কাজ করেছে?
- (৪) এগুলো কেন খারাপ কাজ?

ন্যায় কাজ বা ভালো কাজের গুরুত্ব অনেক বেশি। যিনি ন্যায় কাজ করেন, ন্যায় পথে চলেন, সমাজের সবাই তাকে প্রশংসা করে। ন্যায় কাজ অন্যায়কে ঘৃণা করতে শেখায়। ন্যায় কাজের দ্বারা সমাজের অনেক উপকার হয়। সমাজে শান্তি প্রতিষ্ঠিত হয়। তাই আমাদের ন্যায় কাজ করা উচিত, ন্যায় পথে চলা উচিত।

আমরা একটু চেষ্টা করলেই অনেক ভালো কাজ করতে পারি। যেমন—সত্য কথা বলা, সৎপথে চলা, সৎ বন্ধু নির্বাচন করা, সত্যবাদীর পক্ষে কথা বলা, মিথ্যাবাদী ও অন্যায়কারীর পক্ষে না নেওয়া ইত্যাদি। আমরা সবাই ন্যায় কাজের অনুশীলন করলে সমাজ থেকে অন্যায় দূর হবে, সমাজে সত্য ও ন্যায় প্রতিষ্ঠিত হবে। সমাজের মানুষ শান্তিতে থাকবে।

খ) নিচের ছকে ন্যায় কাজের গুরুত্ব লিখি—

ক্রমিক নং	ন্যায় কাজের গুরুত্ব
১	
২	
৩	
৪	

গ) আমি প্রতিদিন অনুশীলন করব এমন পাঁচটি ভালো কাজ লিখি—

১.
২.
৩.
৪.
৫.

ঘ) সাজু ও নায়রার বক্তব্য অনুযায়ী ভূমিকাভিনয় করি।

অনুশীলন

ক. সঠিক উত্তরের পাশে টিক (✓) চিহ্ন দিই।

১। কোন কাজটিকে আমরা ন্যায় কাজ বলব?

ক) অন্যকে বিরক্ত করা খ) কাউকে সহযোগিতা করা গ) বড়দের কথা না শোনা ঘ) মিথ্যা কথা বলা

২। কোন কাজ করা থেকে বিরত থাকব?

ক) বড়দের কথা শোনা খ) অন্যায়ের প্রতিবাদ করা গ) অন্যায় মেনে নেওয়া ঘ) সৎপথে চলা

খ. সঠিক শব্দ দিয়ে শূন্যস্থান পূরণ করি।

অন্যায়, শাস্তি, অনুশীলন, প্রশংসা

১. ন্যায় কাজের মাধ্যমে সমাজে প্রতিষ্ঠিত হয়।

২. ভালো কাজ করলে সমাজ থেকে দূর হবে।

৩. দৈনন্দিন জীবনে ভালো কাজের করা প্রয়োজন।

৪. যিনি ন্যায় কাজ করেন তিনি পান।

গ. সংক্ষিপ্ত প্রশ্ন।

১. ন্যায় কাজ বলতে কী বোঝায়?

২. দুইটি ন্যায় কাজের উদাহরণ লিখি।

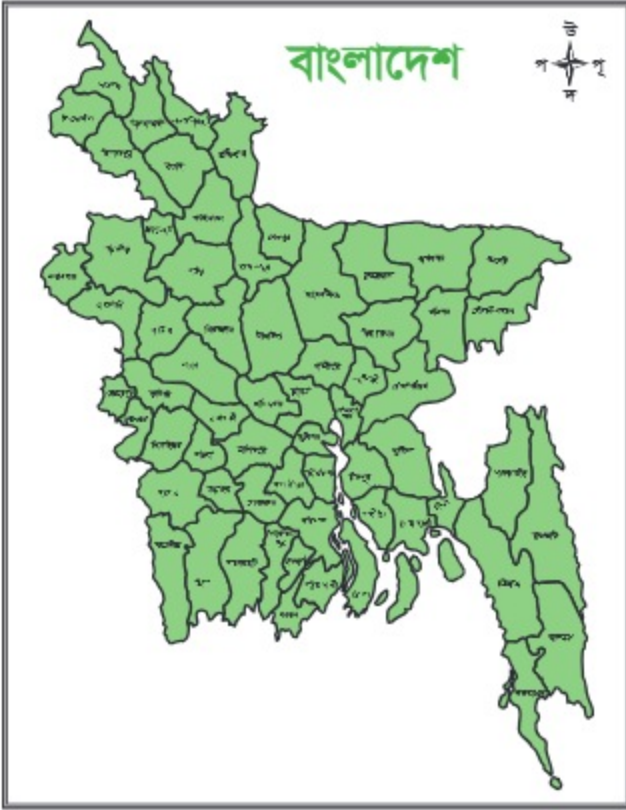
৩. অন্যায় কাজ বলতে কী বোঝায়?

৪. দুইটি অন্যায় কাজের উদাহরণ লিখি।

৫. আমি প্রতিদিন করি এমন তিনটি ন্যায় কাজের তালিকা তৈরি করি।

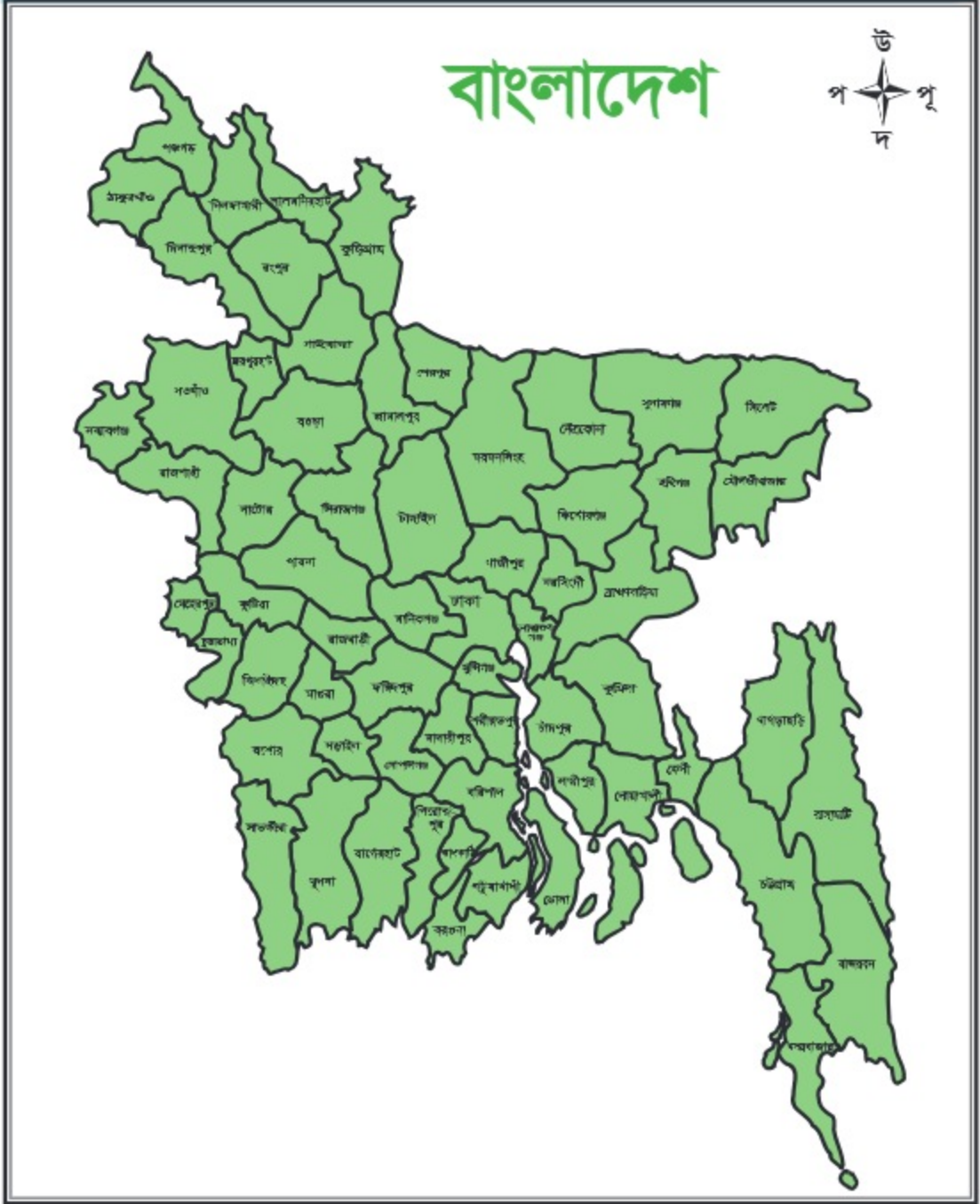
অধ্যায় : ১০ আমাদের দেশ

১ বাংলাদেশের মানচিত্র



মানচিত্রের চারটি দিক থাকে—উপরের দিকটি উত্তর, নিচের দিকটি দক্ষিণ, ডানের দিকটি পূর্ব ও বামের দিকটি পশ্চিম। এছাড়াও মানচিত্রে উত্তর-পশ্চিম, উত্তর-পূর্ব, দক্ষিণ-পশ্চিম ও দক্ষিণ-পূর্ব দিক থাকে। উপরে যে মানচিত্রটি দেখা যাচ্ছে তা বাংলাদেশের মানচিত্র। বাংলাদেশের মানচিত্রটিতেও চারটি দিক রয়েছে। বাংলাদেশের ৮টি বিভাগের অধীনে ৬৪টি জেলা রয়েছে। প্রতিটি জেলারই নির্দিষ্ট সীমানা আছে।

ক) মানচিত্রে দিক চিহ্নিত করি-



খ) মানচিত্রে দেখি ও নিচের ছকে দিক অনুযায়ী জেলার নাম লিখি-

মানচিত্রের দিক	জেলার নাম
সর্ব উত্তর	
সর্ব দক্ষিণ	
উত্তর-পূর্ব	
দক্ষিণ-পশ্চিম	

গ) মানচিত্রে নিজ জেলা চিহ্নিত করি ও অবস্থান দেখাই-

ঘ) আমার নিজ জেলার কোন দিকে কোন কোন জেলা আছে তা মানচিত্রে খুঁজে বের করি ও ছকে লিখি-

নিজ জেলার নাম	দিক	জেলার বা স্থানের নাম
	পূর্ব	
	পশ্চিম	
	উত্তর	
	দক্ষিণ	

২

বাংলাদেশের কৃষিজাত পণ্য



ক) পর্যবেক্ষণ করি ও ছবি সম্পর্কে তথ্য নিচের ছকে লিখি-

কীসের ছবি?

কারা উৎপাদন করে?

এগুলো কী ধরনের পণ্য?

আমাদের দেশ

আমরা প্রতিদিন নানা কাজে নানা ধরনের পণ্য ব্যবহার করি। এর মধ্যে কিছু পণ্য কৃষি থেকে ও কিছু পণ্য শিল্প থেকে পেয়ে থাকি। কৃষি থেকে যে সমস্ত পণ্য পাওয়া যায় তাই কৃষিজাত পণ্য। আর শিল্প থেকে প্রাপ্ত পণ্যই হলো শিল্পজাত পণ্য। বাংলাদেশের প্রধান কৃষিজাত পণ্য হলো ধান, পাট, আখ এবং চা। দেশের সব অঞ্চলেই ধান জন্মে। পাট ও চা অর্থকরী ফসল। এগুলো বিদেশে রপ্তানি করে প্রচুর বৈদেশিক মুদ্রা পাওয়া যায়। এছাড়া আমাদের দেশে গম, ভুট্টা, সরিষা, ডাল, তামাক, তুলা, শাকসবজি, মসলা, ফল ইত্যাদি উৎপন্ন হয়। মাছ, হাঁস-মুরগি ও গবাদি পশু আমাদের অন্যতম কৃষিজাত পণ্য।

খ) আমার নিজের এলাকায় যে যে কৃষিপণ্য বেশি উৎপন্ন হয়, তার তালিকা তৈরি করি-

১.
২.
৩.
৪.

ধান, দুধ, চিনি, সিমেন্ট, ডিম, ঔষধ, মাংস, কাগজ, মাছ, শসা, গম, ভুট্টা, লালশাক, টেঁড়স, ডাল, শিম

গ) উপরের তালিকা থেকে কৃষিজাত পণ্যগুলো বাছাই করে নিচে লিখি-

- | | |
|---------|---------|
| ১. | ৫. |
| ২. | ৬. |
| ৩. | ৭. |
| ৪. | ৮. |

ঘ) যে যে কৃষিজাত পণ্যের তালিকা তৈরি করেছি, সেগুলোকে নিচের মতো শ্রেণিকরণ করি-

খাদ্যশস্য

শাকসবজি

প্রাণিজাত

৩ বাংলাদেশের শিল্পজাত পণ্য



ক) ছবি পর্যবেক্ষণ করি ও ছবি সম্পর্কে তথ্য নিচের ছকে লিখি-

কীসের ছবি?

কারা তৈরি করে?

এগুলো কী ধরনের পণ্য?

বাংলাদেশের প্রধান শিল্পজাত পণ্য হলো তৈরি পোশাক, চিনি, সিমেন্ট, সার ও ঔষধ। বর্তমানে তৈরি পোশাক বা গার্মেন্ট শিল্প বাংলাদেশের একটি গুরুত্বপূর্ণ শিল্প। দেশের অধিকাংশ পোশাক শিল্প ঢাকা এবং চট্টগ্রামে গড়ে উঠেছে। বাংলাদেশ বিদেশে পোশাক রপ্তানি করে সবচেয়ে বেশি বৈদেশিক মুদ্রা পেয়ে থাকে। পোশাক শিল্পে বিপুলসংখ্যক শ্রমিক কাজ করছে।

খ) আমার নিজের বাড়িতে যেসব শিল্পজাত পণ্য ব্যবহার করি তা নিচে লিখি—

১. ৫.
২. ৬.
৩. ৭.
৪. ৮.

গ) নিচের পণ্যগুলোকে কৃষিজাত ও শিল্পজাত শিরোনামে ভাগ করি—

ডাল, সাবান, টুথপেস্ট, ধান, শাড়ি, লুঙ্গি, পাট, মাছ, চিনি, সরিষা, সার, কলা, কাগজ, সবজি, বিস্কুট, গম

কৃষিজাত পণ্য	শিল্পজাত পণ্য
১.	১.
২.	২.
৩.	৩.
৪.	৪.
৫.	৫.
৬.	৬.
৭.	৭.
৮.	৮.

৪ বাংলাদেশের জনসংখ্যা ও সম্পদ

কোনো দেশে যত মানুষ বাস করে, তাদের মোট সংখ্যাকে বলা হয় সেদেশের জনসংখ্যা। বাংলাদেশের জনসংখ্যা বর্তমানে প্রায় ১৬ কোটি ৫১ লক্ষ। আমাদের দেশে নারী-পুরুষের সংখ্যা প্রায় সমান। নারীর সংখ্যা পুরুষের চেয়ে সামান্য বেশি। নারীর সংখ্যা প্রায় ৮ কোটি ৩৪ লক্ষ এবং পুরুষের সংখ্যা প্রায় ৮ কোটি ১৭ লক্ষ। পৃথিবীর সব দেশের জনসংখ্যা সমান নয়; কোনো দেশের জনসংখ্যা বেশি, আবার কোনো দেশের কম। জনসংখ্যার দিক থেকে বাংলাদেশের অবস্থান সব দেশের মধ্যে অষ্টম।

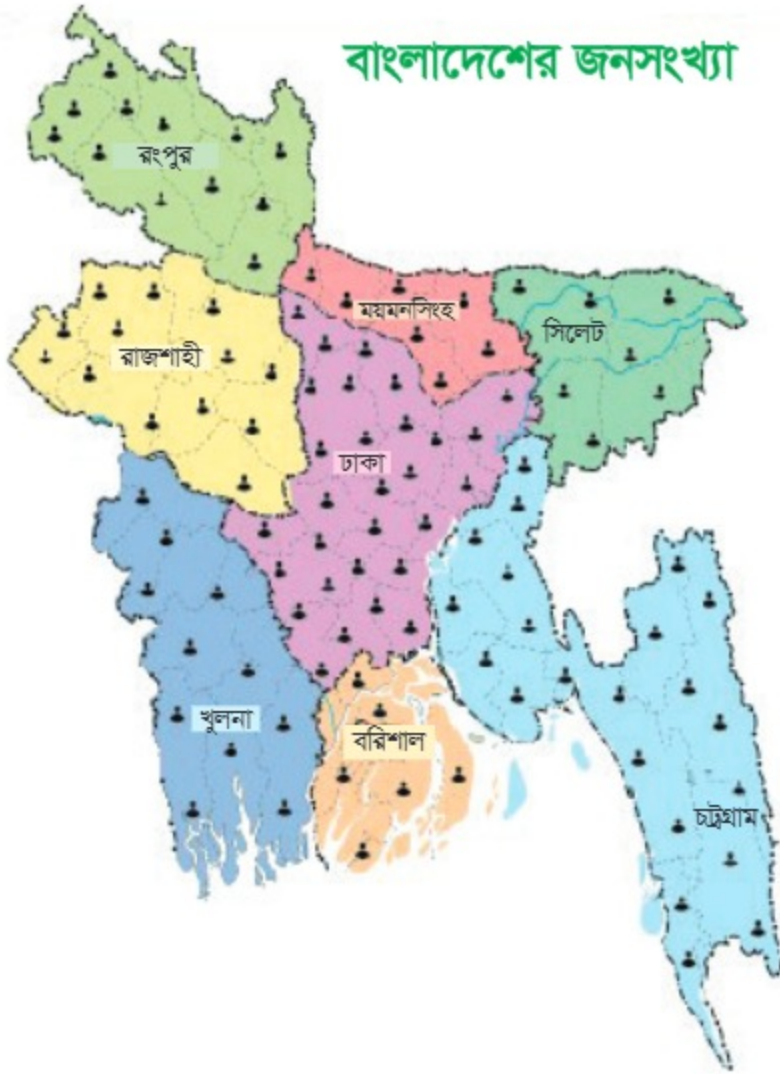
আমরা প্রতিদিন আমাদের প্রয়োজনে জমি, পানি, প্রাকৃতিক গ্যাস, জ্বালানি তেল ইত্যাদি সম্পদ ব্যবহার করি। জনসংখ্যা বেশি হলে এসব সম্পদও বেশি ব্যবহার করা হয়। তবে মানুষ নিজেও সম্পদ হয়ে উঠতে পারে। কারণ, তার কাজ করার ক্ষমতা ও মেধা রয়েছে। একজন দক্ষ কর্মী একজন অদক্ষ কর্মীর চেয়ে অনেক ভালোভাবে কোনো কাজ করতে পারেন। শিক্ষিত ও দক্ষ মানুষ হচ্ছে মানবসম্পদ। বাংলাদেশের জনসংখ্যা বেশি হওয়ায় বেশি মানবসম্পদ হওয়ার সুযোগ রয়েছে। যে দেশে মানবসম্পদ যত উন্নত, সে দেশ তত উন্নত।

ক) জনসংখ্যা সম্পর্কে তথ্য খুঁজে বের করি ও নিচের চিত্রে লিখি—



বাংলাদেশের সব জায়গার জনসংখ্যা একরকম নয়। কোনো জায়গায় বেশি মানুষ বাস করে, কোথাও আবার কম মানুষ বাস করে।

বাংলাদেশের কোন বিভাগে জনসংখ্যা কেমন তা নিচের মানচিত্রে দেখে নিই-



খ) বাংলাদেশের মানচিত্রটি পর্যবেক্ষণ করে বিভাগের জনসংখ্যা অনুযায়ী ক্রমানুসারে (বেশি থেকে কম) বিভাগের নাম খালি ঘরে লিখি-

--	--	--	--	--	--	--	--

গ) নিচের গল্পটি পড়ে প্রশ্নগুলোর উত্তর লিখি—

মেহেদী হাসান একজন সচ্ছল কৃষক ছিলেন। পরিবারে তিনি ছাড়া স্ত্রী, দুই ছেলে ও এক মেয়ে। জমির ফসল থেকে যা আয় হতো, তা দিয়ে সংসার ভালোই চলত। তাঁর ছেলেমেয়েরা হাইস্কুল পর্যন্ত পড়ে আর পড়াশোনা করেনি। তারা টাকা আয় করার মতো কোনো কাজও শেখেনি। ধীরে ধীরে সন্তানদের নিজেদের সংসার হয়, জমি ভাগ হয়। তাদের প্রত্যেকের ভাগে জমির পরিমাণ কম হয়ে পড়ে। আন্তে আন্তে আর্থিক অবস্থা খারাপ হতে থাকে।

একই গ্রামের সাইফুল ইসলাম মাছ ধরে সংসার চালাতেন। স্ত্রী, এক ছেলে ও দুই মেয়ে নিয়ে তাঁর পরিবার। কষ্ট করে হলেও তিনি ছেলেমেয়েদের লেখাপড়া শিখিয়েছেন। ছেলে হাইস্কুলের পড়া শেষ করে গাড়ি চালাতে শিখেছে। পরে সে ড্রাইভার হিসেবে বিদেশে যায়। বড়ো মেয়ে পড়ালেখা শেষ করে ঢাকায় শিক্ষকতা করে। ছোটো মেয়ে পড়াশোনার পাশাপাশি কম্পিউটার শিখেছে। এখন কম্পিউটারে কাজ করে অনেক টাকা আয় করে। বড়ো ভাই-বোন মিলে ছোটো বোনের পড়াশোনার খরচ বহন করেছিল। সাইফুলের পরিবার এখন অনেক সচ্ছল।

১. মেহেদী ও সাইফুলের পরিবারের সদস্য সংখ্যা কত?

ক. মেহেদীর পরিবার : খ. সাইফুলের পরিবার :

২. কোন পরিবারের সম্পদ বেশি ছিল?

.....

৩. কোন পরিবার উন্নতি করেছে?

.....

৪. কার সন্তানদেরকে মানবসম্পদ বলা যাবে?

.....

৫. কেন এদেরকে মানবসম্পদ বলা যাবে?

.....

.....

.....

অনুশীলন

ক. সঠিক উত্তরের পাশে টিক (✓) চিহ্ন দিই।

১। পঞ্চগড় বাংলাদেশের মানচিত্রের কোন দিকে অবস্থিত?

ক) সর্ব উত্তর খ) সর্ব দক্ষিণ গ) উত্তর-পূর্ব ঘ) দক্ষিণ-পশ্চিম

২। জনসংখ্যার দিক থেকে বাংলাদেশের অবস্থান সব দেশের মধ্যে কততম?

ক) ৫ম খ) ৬ষ্ঠ গ) ৭ম ঘ) ৮ম

৩। কোনটি শিল্পজাত পণ্য?

ক) চিনি খ) আখ গ) মসলা ঘ) তুলা

খ. সংক্ষিপ্ত প্রশ্ন।

১. চা কে অর্থকরী ফসল বলা হয় কেন?
২. কয়েকটি কৃষিজাত পণ্যের নাম লিখি।
৩. শিল্পজাত পণ্য বলতে কী বোঝায়?
৪. মানবসম্পদ বলতে কী বোঝায় ?

গ. বর্ণনামূলক প্রশ্ন।

১. যে দেশের মানব সম্পদ যত উন্নত সে দেশ তত উন্নত কেন?
২. নিচের কৃষিজাত পণ্যগুলোকে খাদ্যশস্য, শাকসবজি ও প্রাণিজাত শিরোনামে পৃথক করি।
ধান, ডাল, দুধ, ডিম, মাখন, মাংস, গম, শসা, ভুট্টা, লাল শাক, গাজর, শিম, পালং শাক, সরিষা, টেঁড়শ।

অধ্যায় : ১১

বিভিন্ন পেশা

১ যাঁরা উৎপাদন করেন

ক) নিচের ছবিগুলো পর্যবেক্ষণ করে পাশের প্রশ্নগুলোর উত্তর খুঁজে বের করি-



লোকগুলো কী করছেন?

তাদেরকে কী বলা হয়?



লোকগুলো কী করছেন?

তাদেরকে কী বলা হয়?



নারীটি কী করছেন?

তাদেরকে কী বলা হয়?



আমি মাঠে কাজ করি। আমি ধান, পাট, আখ, আলু, টমেটো ইত্যাদি উৎপাদন করি।

আমার উৎপাদিত ফসল মানুষ নানাভাবে ব্যবহার করে।



আমরা মাছ চাষ করি, মাছ ধরি ও বিক্রি করি।

আমার উৎপাদিত মাছ মানুষ খাদ্য হিসেবে ব্যবহার করে।

আমি খামারে মুরগি উৎপাদন করি।

আমার উৎপাদিত মুরগি থেকে মানুষ ডিম ও মাংস পায়



কৃষক, জেলে ও খামারি সকলেই নানা জিনিস উৎপাদন করেন। তাঁরা সবাই নিজ নিজ কাজের মাধ্যমে সবার প্রয়োজন মেটান এবং অর্থ উপার্জন করেন। এ কাজগুলোই তাঁদের পেশা। এ পেশার নাম কৃষিকাজ।

২ যাঁরা তৈরি করেন



ছবি- ১



ছবি- ২



ছবি- ৩



ছবি- ৪

ক) উপরের ছবিগুলো পর্যবেক্ষণ করে নিচের প্রশ্নগুলোর উত্তর খুঁজে বের করি-

প্রশ্ন	১ নং ছবি	২ নং ছবি	৩ নং ছবি	৪ নং ছবি
ছবির লোকগুলো কী করছেন?				
তাদের কী বলা হয়?				



আমি কাঠ দিয়ে আলমারি, চেয়ার, টেবিল, খাট, ঘর ইত্যাদি তৈরি করি।

আমার তৈরি জিনিস মানুষকে সুবিধা দেয়। জীবনকে সুন্দর করে। মানুষকে নিরাপত্তাও দেয়।

আমি মাটি দিয়ে কলস, হাঁড়ি, পাতিল, সানকি, ফুলের টব, ফুলদানি, খেলনা ইত্যাদি তৈরি করি।



আমার তৈরি পণ্য মানুষ প্রতিদিন ব্যবহার করে। গ্রামের মানুষ সবচেয়ে বেশি ব্যবহার করে। সৌন্দর্য বৃদ্ধির জন্যও মানুষ আমার তৈরি জিনিস ব্যবহার করে।

আমি বিভিন্ন রং দিয়ে সুতা রং করি। সেই সুতা দিয়ে তাঁতে কাপড় বুনি। নানা রকমের শাড়ি, লুঙ্গি, গামছা তৈরি করি।



মানুষের খুব প্রয়োজনীয় একটি জিনিস হলো কাপড়। বহুকাল ধরে মানুষ এটি ব্যবহার করে আসছে। আমি মানুষের এ চাহিদা পূরণ করি।

আমি কাপড় দিয়ে শার্ট, প্যান্ট, সালোয়ার-কামিজ, ফ্লক-স্কার্ট ইত্যাদি তৈরি করি। ছেলে-মেয়ে, ছোটো-বড়ো সকলের জন্যই পোশাক বানাই।

আমার তৈরি নানা ধরনের পোশাক মানুষ ব্যবহার করে। পোশাক ছাড়াও কাপড়ের তৈরি নানা জিনিস মানুষ ব্যবহার করে।



কাঠমিস্ত্রি, তাঁতি, কুমোর ও দর্জি নানা জিনিস তৈরি করেন। তাঁরা তৈরি জিনিস বিক্রি করে অর্থ উপার্জন করেন। এ কাজগুলোই তাঁদের পেশা।

খ) নিচের ছকে প্রদত্ত কাজগুলো কোন পেশাজীবীর সাথে যুক্ত তা লিখি-

কাজের নাম	পেশাজীবীর নাম
কাপড় সেলাই করা	দর্জি
মাটি দিয়ে খেলনা তৈরি করা	
কাঠ দিয়ে চেয়ার, টেবিল ইত্যাদি তৈরি করা	
সূতা দিয়ে শাড়ি, লুঙ্গি, গামছা ইত্যাদি তৈরি করা	
মাটি দিয়ে ফুলদানি তৈরি করা	
কাঠ খোদাই করে নকশা করা	

গ) নিচের চার্টে দাগ টেনে বিভিন্ন পেশাজীবীর নাম, তাঁদের কাজ ও তৈরি পণ্যের নাম মিল করি-



৩ যাঁরা সেবা দেন



১নং ছবি



২নং ছবি



৩নং ছবি



৪নং ছবি

ক) উপরের ছবিগুলো পর্যবেক্ষণ করে নিচের প্রশ্নগুলোর উত্তর খুঁজে বের করি—

প্রশ্ন	১ নং ছবি	২ নং ছবি	৩ নং ছবি	৪ নং ছবি
ছবির লোকগুলো কী করছেন?				
তাদের কী বলা হয়?				



আমি শিক্ষাপ্রতিষ্ঠানে শিক্ষার্থীদের শিক্ষা দিয়ে থাকি। আমি পড়ালেখার পাশাপাশি সহপাঠক্রমিক কার্যাবলির মাধ্যমে শিক্ষার্থীদের সুগুণ প্রতিভা বিকাশেও সাহায্য করি।

আমি অসুস্থ রোগীদের রোগ নির্ণয় করি। প্রয়োজনীয় ঔষধ সেবন ও পথ্য গ্রহণের পরামর্শ দিই।



আমি রোগীদের দেখাশোনা করি, সময়মতো ঔষধ, পথ্য ইত্যাদি খাওয়াই। আমি ডাক্তারদের কাজে সহযোগিতা করি।



আমি আমার দোকানে চাল, ডাল, তেল ইত্যাদি নিত্য প্রয়োজনীয় দ্রব্য বিক্রয় করি।



আমি রিকশা চালাই। এক জায়গা থেকে অন্য জায়গায় যেতে মানুষকে সাহায্য করি। আমি মালামালও পরিবহণ করি।



শিক্ষক, ডাক্তার, নার্স, চালক ও দোকানদার মানুষকে সেবা দেন। তাঁরা মানুষকে সেবাদানের মাধ্যমে অর্থ উপার্জন করেন। এটাই তাঁদের পেশা।

খ) নিচের ছকের কাজগুলো কোন পেশাজীবীর সাথে যুক্ত তা লিখি-

কাজের নাম	পেশাজীবীর নাম
শ্রেণিকক্ষে পাঠ দান	শিক্ষক
মুদি দোকানে পণ্য বিক্রয় করা	
যাত্রী পরিবহণ করা	
চিকিৎসা করা	
যাতায়াতে সহায়তা করা	
চিকিৎসকের কাজে সহায়তা করা	

গ) নিচের চারটে দাগ টেনে বিভিন্ন পেশাজীবীর নাম, কাজ ও সেবার নাম মিল করি-

শিক্ষক	●	●	চিকিৎসা দেন	●	●	ন্যায়বিচার
আইনজীবী	●	●	আইনি পরামর্শ	●	●	যোগাযোগ
দমকল কর্মী	●	→	আগুন নিভানো	●	●	স্বাস্থ্যসেবা
চালক	●	●	সহপাঠক্রমিক কাজ	●	●	সুপ্ত প্রতিভা বিকাশ
ডাক্তার	●	●	যাতায়াতে সহায়তা	●	●	অগ্নি নিরাপত্তা

ঘ) দলে বিভিন্ন পেশাজীবীর ভূমিকায় অভিনয় করি ও অভিনয় দেখে পেশাজীবী চিহ্নিত করি-

অনুশীলন

ক. সঠিক উত্তরের পাশে টিক (✓) চিহ্ন দিই।

- ১। কোন পেশাজীবী উৎপাদনের সাথে জড়িত?
 - ক) শিক্ষক খ) কৃষক গ) দর্জি ঘ) কুমার
- ২। কোন পেশাজীবী সেবা প্রদান করেন?
 - ক) দোকানদার খ) তাঁতি গ) জেলে ঘ) খামারি
- ৩। একজন দোকানদার আমাদের কীভাবে সেবা দিয়ে থাকেন?
 - ক) পণ্য উৎপাদন করে খ) পণ্য পরিবহণ করে গ) পণ্য বিক্রি করে ঘ) পণ্য ব্যবহার করে

খ. সঠিক শব্দ দিয়ে শূন্যস্থান পূরণ করি।

১. এক জায়গা থেকে অন্য জায়গায় পণ্য নিয়ে যান
২. হাঁস, মুরগি, ডিম উৎপাদন করেন
৩. চেয়ার, টেবিল আলমারি ইত্যাদি তৈরি করেন
৪. শ্রেণিতে আমাদের পাঠদান করেন
৫. শাড়ি, লুঙ্গি, গামছা তৈরি করেন
৬. নদী থেকে মাছ ধরেন

গ. সংক্ষিপ্ত প্রশ্ন।

১. পেশা বলতে কী বোঝায়?
২. উৎপাদন করেন এমন কিছু পেশাজীবীর নাম লিখি।
৩. যারা সেবা প্রদান করেন এমন কিছু পেশাজীবীর নাম লিখি।

টাকার ব্যবহার

১ আমার জীবনে টাকার ব্যবহার



ছবি- ১



ছবি- ২



ছবি- ৩



ছবি- ৪

ক) ছবি দেখি ও কী কী কাজে টাকা ব্যবহার করা হচ্ছে তার তালিকা তৈরি করি-



কোনো বস্তুর দাম পরিশোধের আধুনিক মাধ্যম হলো টাকা। টাকা দিয়েই প্রতিদিনের জিনিসপত্র কেনাকাটা করি। পরিবারের কেউ অসুস্থ হলে চিকিৎসার জন্য টাকার দরকার। টাকা দিয়ে উপহার কিনে প্রিয়জনকে দিই। আমরা বই, খাতা, কলম আরও নানা জিনিস কিনতে টাকা ব্যবহার করি। আমরা টাকা দিয়ে ভবিষ্যতের নানা প্রয়োজন মেটাই। প্রয়োজন ছাড়া টাকা খরচ করা উচিত নয়। প্রয়োজনের বেশি খরচ করলে টাকা অপচয় হয়। আমরা অপচয় করব না।



খ) পড়ি ও নিচের ছকে তথ্য লিখি-

আমি যে যে কাজে টাকা ব্যবহার করি	১.
	২.
	৩.
	৪.

২ আমার প্রয়োজনে আমার সঞ্চয়



ক) ছবিগুলো পর্যবেক্ষণ করে তার নিচে তথ্য লিখি-

মানুষ বিভিন্ন উৎস থেকে টাকা পেয়ে থাকে। কাজ করে বেতন পায়। কোনো কিছু বিক্রি করলে তার দাম হিসেবে টাকা পায়। এ সবই তাদের আয়। এই আয় থেকে খরচ করার পর যে টাকা বাকি থাকে তা-ই সঞ্চয়।

ভবিষ্যতের বিভিন্ন প্রয়োজন মেটানোর জন্যই আমরা সঞ্চয় করি। হঠাৎ টাকার দরকার হলে সঞ্চয় থেকে মেটাতে পারি। আমাদের নানা ইচ্ছা পূরণের জন্য টাকার প্রয়োজন। নিজের পছন্দের বই, খেলনা কিনতে টাকা প্রয়োজন। উপহার কিনতেও টাকা দরকার। সঞ্চয় হলো মানুষের বিপদের বন্ধু। তাই আমাদের সঞ্চয়ী হতে হবে। আমরা সাধারণত মাটির ব্যাংক, কাঠের বাস্কা ও প্লাস্টিকের কৌটা ইত্যাদিতে সঞ্চয় করতে পারি।

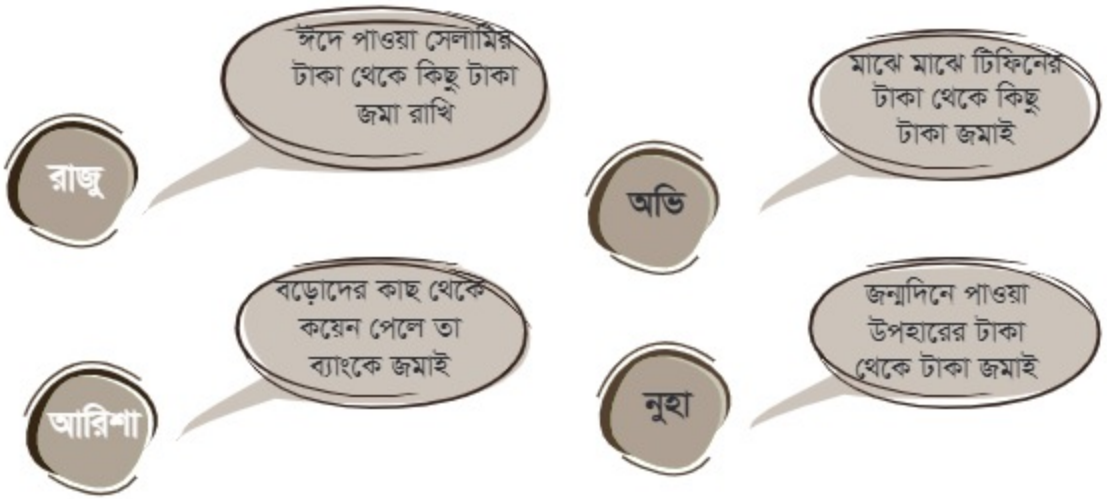


মাটির ব্যাংকে জমানো টাকা

খ) পড়ি ও আমি কেন সঞ্চয় করব তা নিচের ছকে লিখি-

যে যে কারণে আমি সঞ্চয় করব	
১.	
২.	
৩.	
৪.	

গ) রাজু, অভি, আরিশা ও নুহার কথাগুলো পড়ি। আমি কীভাবে সঞ্চয়ী হব তা নিচের ছকে লিখি-



আমি সঞ্চয়ী হওয়ার জন্য যা যা করব	১.
	২.
	৩.
	৪.

অনুশীলন

ক. সঠিক শব্দ দিয়ে শূন্যস্থান পূরণ করি।

- ১। কোনো বস্তুর দাম পরিশোধের আধুনিক মাধ্যম হলো।
- ২। ভবিষ্যতের বিভিন্ন প্রয়োজন মেটানোর জন্যই আমরা..... করি।
- ৩। প্রয়োজনের বেশি খরচ করলে টাকা হয়।

খ. সংক্ষিপ্ত প্রশ্ন।

- ১। দৈনন্দিন জীবনে টাকার ব্যবহার লিখি।
- ২। সঞ্চয় বলতে কী বোঝায়?
- ৩। আমরা কীভাবে টাকা সঞ্চয় করতে পারি?

অধ্যায় : ১৩

জরুরি পরিস্থিতি মোকাবিলা

১ অগ্নিকাণ্ড



ছবি- ১



ছবি- ২

ক) ছবি দুটি পর্যবেক্ষণ করে নিচের প্রশ্নগুলোর উত্তর দিই-

- ১) ১নং ছবিতে কী দেখা যাচ্ছে?
- ২) ফায়ার ব্রিগেডের লোকজন কী করছে?
- ৩) আশপাশের লোকজন কী করছে?
- ৪) ২ নং ছবিতে কী দেখা যাচ্ছে?

বাংলাদেশে নানা ধরনের দুর্ঘটনা ঘটে। তার মধ্যে উল্লেখযোগ্য তিনটি হলো অগ্নিকাণ্ড, বন্যা ও ভূমিকম্প। প্রাকৃতিক কারণ ছাড়াও মানবসৃষ্ট কারণে অনেক সময় দুর্ঘটনা ঘটে থাকে। অগ্নিকাণ্ড একটি ভয়াবহ দুর্ঘটনা। বাংলাদেশে অনেক সময় ঘরবাড়ি, শহরের বস্তি, দোকানপাট, কল-কারখানা, গার্মেন্টস এবং যানবাহনে আগুন লেগে দুর্ঘটনা ঘটে। এর ফলে সম্পদের প্রচুর ক্ষতি হয়ে থাকে। অনেক মানুষ সবকিছু হারিয়ে নিঃশব্দ হয়ে যায়। অগ্নিকাণ্ডে মানুষ মারাও যায়। তাছাড়া পরিবেশেরও অনেক ক্ষতি হয়।

আগুন লাগার কারণগুলো জেনে নিই-

- ◇ অপ্রয়োজনে রান্নার চুলা জ্বালিয়ে রাখা
- ◇ জ্বলন্ত সিগারেট, বিড়ি, ম্যাচের কাঠি ইত্যাদি নিভিয়ে যথাস্থানে না ফেলা
- ◇ আগুন নিয়ে খেলা করা
- ◇ বাজি পোড়ানো
- ◇ মশার কয়েল, মোমবাতি, কুপিবাতি ও খোলা কেরোসিনবাতি ব্যবহারে সতর্ক না থাকা
- ◇ ত্রুটিপূর্ণ বৈদ্যুতিক যন্ত্রপাতি
- ◇ নিয়ম না মেনে বৈদ্যুতিক যন্ত্রপাতি ব্যবহার করা
- ◇ ত্রুটিপূর্ণ গ্যাস সিলিন্ডার ব্যবহার করা

অগ্নিকাণ্ড প্রতিরোধে করণীয়-

- ◇ রান্নার পর চুলা ভালোভাবে বন্ধ করা
- ◇ জ্বলন্ত সিগারেট, বিড়ি, দিয়াশলাইয়ের কাঠি ইত্যাদি ভালোভাবে নিভিয়ে যথাস্থানে ফেলা
- ◇ বৈদ্যুতিক ফিটিংসসমূহ নিয়মিত পরীক্ষা করা
- ◇ বাসায়, কারখানায় এবং গাড়িতে ব্যবহৃত গ্যাস সিলিন্ডার নিয়মিত পরীক্ষা করা
- ◇ বাড়িতে অগ্নি নির্বাপন সামগ্রী প্রস্তুত রাখা
- ◇ আগুন নিয়ে খেলাধুলা না করা।

আগুন লেগে গেলে করণীয়-

- ◇ অগ্নিকাণ্ড থেকে প্রথমে নিজেকে রক্ষা করতে হবে।
- ◇ বাড়িতে আগুন লেগে গেলে সাথে সাথে প্রতিবেশীদের সাহায্য চাইতে হবে।
- ◇ পরনের কাপড়ে আগুন লাগলে দৌড়াদৌড়ি না করে মাটিতে গড়াগড়ি দিতে হবে। দেহের কোনো অংশ পুড়ে গেলে সেখানে প্রচুর পানি ঢালতে হবে এবং যত তাড়াতাড়ি সম্ভব চিকিৎসকের পরামর্শ নিতে হবে।
- ◇ ফায়ার সার্ভিসকে টেলিফোন করে অগ্নিকাণ্ডের ঘটনা জানাতে হবে।
- ◇ জরুরি সেবার জন্য ৯৯৯ নম্বরে টেলিফোন করতে হবে।

খ) আমার নিজ বাড়িতে কখনো আগুন লেগে গেলে করণীয় কাজের আলোকে নিচের ছকটি পূরণ করি-

ক্রমিক নং	নিজ বাড়িতে আগুন লেগে গেলে করণীয়
১	
২	
৩	
৪	

গ) আমার শরীরে বা পোশাকে কখনো আগুন লেগে গেলে করণীয় কাজের আলোকে নিচের ছকটি পূরণ করি-

ক্রমিক নং	শরীরে বা পোশাকে কখনো আগুন লেগে গেলে করণীয়
১	
২	
৩	
৪	

ঘ) শ্রেণির সকলে মিলে অগ্নি নির্বাপন মহড়া পরিচালনা করি-



২ বন্যা



মমিন বাংলাদেশের একটি গ্রামে থাকে। সে তৃতীয় শ্রেণির শিক্ষার্থী। টেলিভিশনে কয়েকদিন ধরে ভারী বৃষ্টি হতে পারে ঘোষণা করা হয়েছে। পরদিন থেকে টানা এক সপ্তাহ অবিরাম বৃষ্টি হতে থাকল। জমির আধাপাকা ধান, সবজির ক্ষেত, রাস্তাঘাট সবকিছু পানির তলায় ডুবে গেল। মমিনের বাবা তাড়াছড়ো করে পরিবার নিয়ে গ্রামের স্কুলের তিনতলা ভবনে আশ্রয় নিলেন। গ্রামের দক্ষিণ পাশের উঁচু বেড়িবাঁধে দুটি গরু রেখে আসলেন। বাকি গবাদি পশু এবং অন্যান্য জিনিসপত্র নিয়ে আসার আগেই বেড়িবাঁধ ভেঙে গেল। অনেক জিনিসপত্র বন্যার পানিতে ভেসে গেল। গ্রামের আরও অনেক পরিবার স্কুলভবনে আশ্রয় নিয়েছে। মমিনরা সেখানে আটকে থাকল। তাদের খাবার এবং পানীয় জলের অভাব দেখা দিলো। গবাদি পশুর খাবারও শেষ হয়ে গেল। বন্যার দূষিত পানি পান করে অনেকে ডায়রিয়ায় আক্রান্ত হলো। তাদের প্রয়োজনীয় ঔষধপত্রও ছিল না।

ক) উপরের ঘটনাটা পড়ে নিচের প্রশ্নগুলোর উত্তর দিই—

- (১) মমিনরা আশ্রয়কেন্দ্রে গেল কেন?
- (২) তারা প্রয়োজনীয় জিনিসপত্র নিয়ে যেতে পারল না কেন?
- (৩) মমিনদের কিছু গরু বন্যায় ভেসে গেল কেন?
- (৪) আশ্রয়কেন্দ্রে খাবারের অভাব দেখা দিল কেন?
- (৫) আশ্রয়কেন্দ্রে অনেকে ডায়রিয়ায় আক্রান্ত হয়েছিল কেন?

প্রতিবছর আমাদের দেশে অনেক এলাকায় ভয়াবহ বন্যা দেখা দেয়। বন্যা একটি প্রাকৃতিক দুর্যোগ। তাই একে সব সময় নিয়ন্ত্রণ করা যায় না। কিন্তু বন্যার ক্ষয়ক্ষতি কমানোর জন্য কিছু প্রযুক্তি নিতে পারি। প্রয়োজনীয় শুকনো খাবার, খাবার পানি, কাপড়চোপড় ও ঔষধপত্র নিয়ে আশ্রয়কেন্দ্রে যেতে হবে। গবাদি পশুর প্রয়োজনীয় খাবারসহ বেড়িবাঁধ কিংবা কোনো উঁচু স্থানে রাখতে হবে। পড়ার বই-খাতা ও গুরুত্বপূর্ণ সামগ্রী প্লাস্টিক ব্যাগে ভরে বা নিরাপদে রাখতে হবে।

খ) বন্যার সময় আশ্রয়কেন্দ্রে যেতে হলে আমার নিজের কী কী জিনিসপত্র সাথে নেব? এ জিনিসপত্র কীভাবে নিব, তা নিচের ছকে লিখি-

ক্রমিক নং	জিনিসপত্র	নেওয়ার উপায়
১.		
২.		
৩.		

গ) বন্যার সময় মা-বাবাকে কীভাবে সাহায্য করব, তার তালিকা করি-

ক্রমিক নং	কাজ	করার উপায়
১.		
২.		
৩.		


ঘ) আশ্রয়কেন্দ্ৰে কী কী কৰব, আৰু কী কী কৰব না, তাৰ তালিকা কৰি-

ক্রমিক নং	যেসব কাজ কৰব	ক্রমিক নং	যেসব কাজ কৰব না
১.		১.	
২.		২.	
৩.		৩.	
৪.		৪.	
৫.		৫.	

৩ ভূমিকম্প



ছবি- ১



ছবি- ২

ক) উপরের ছবি দুটি পর্যবেক্ষণ করে নিচের প্রশ্নগুলোর উত্তর দাও—

- (১) ১ নং ছবিতে কী দেখতে পাচ্ছ?
- (২) এগুলো কীসের ছবি?
- (৩) ২ নং ছবিতে কী দেখতে পাচ্ছ?
- (৪) ছাত্র-ছাত্রীরা কোথায় আশ্রয় নিচ্ছে? কেন?

ভূমিকম্প একটি ভয়াবহ প্রাকৃতিক দুর্যোগ। এটি যে কোনো সময় শুরু হতে পারে। এটি সাধারণত ৩০-৪০ সেকেন্ড স্থায়ী হয়ে থাকে। কোথাও শক্তিশালী ভূমিকম্প হলে সেখানকার দালানকোঠা, রাস্তাঘাট, বিদ্যুৎ, গ্যাস, টেলিফোন লাইন ইত্যাদি ক্ষতিগ্রস্ত হয়। ঘরবাড়ি ধসে পড়ে। ঘরবাড়ির নিচে চাপা পড়ে অনেক মানুষ আহত ও নিহত হয়। বাংলাদেশ ভূমিকম্পের ঝুঁকির মধ্যে রয়েছে। তাই ভূমিকম্প থেকে রক্ষা পাবার জন্য বিশেষ সতর্কতা অবলম্বন করতে হবে।

ভূমিকম্প শুরু হলে ছোটোছোটো করে ঘর থেকে বের হবার চেষ্টা করা উচিত নয়। এ সময় সিঁড়ি ও লিফট ব্যবহার করা যাবে না। বারান্দা বা ছাদ থেকে লাফ দেওয়া যাবে না। এ সময় দ্রুত শক্ত টেবিল, খাট বা এ জাতীয় আসবাবপত্রের নিচে আশ্রয় নিয়ে নিজেকে রক্ষা করতে হবে। বিছানায় থাকলে বালিশ দিয়ে মাথা ঢেকে রাখতে হবে। পাকা দালানে থাকলে বিমের নিচে দাঁড়াতে হবে।

একটি ভূমিকম্পের কিছুক্ষণ পর সেখানে আবারও ভূমিকম্প হতে পারে। তাই প্রথমবারের ভূমিকম্প থেমে গেলে ঘর থেকে দ্রুত বের হয়ে খোলা জায়গায় আশ্রয় নিতে হবে। বাড়ির বাইরে থাকা অবস্থায় ভূমিকম্প হলে উঁচু ভবন, দেয়াল, গাছ, বিদ্যুতের খুঁটি থেকে দূরে খোলা স্থানে আশ্রয় নিতে হবে। দেওয়ালের নিচে চাপা পড়লে বেশি নড়াচড়া করা যাবে না। ভূমিকম্প থামলে আওয়াজ করতে হবে, যাতে উদ্ধারকারীরা বুঝতে পারে।

খ) ভূমিকম্পে কী ধরনের ক্ষয়ক্ষতি হতে পারে, তার তালিকা করি—

১.
২.
৩.
৪.
৫.

গ) বাড়িতে ও বিদ্যালয়ে থাকাকালে ভূমিকম্প হলে কী করতে হবে এবং কী করা যাবে না, তা নিচের ছকে লিখি—

ক্রমিক নং	কী করতে হবে	কী করা যাবে না
১.		
২.		
৩.		
৪.		

ঘ) ভূমিকম্প হলে কী করব শ্রেণিকক্ষে তার একটি মহড়া করি।

অনুশীলন

ক. বাম পাশের সাথে ডান পাশের মিল করি।

বাম পাশ	ডান পাশ
অগ্নিকাণ্ড	ঘরবাড়ি ধসে পড়ে
বন্যা	ঘরবাড়ি, দোকানপাট পুড়ে যায়
ভূমিকম্প	খাবার পানির সংকট দেখা দেয়

খ. সংক্ষিপ্ত প্রশ্ন।

- ১। আগুন লাগার কারণ লিখি।
- ২। ভূমিকম্পে কী ধরনের ক্ষয়ক্ষতি হতে পারে?

গ. বর্ণনামূলক প্রশ্ন।

- ১। বন্যার সময় আশ্রয় কেন্দ্রে যেতে আমাদের কী কী প্রস্তুতি দরকার?
- ২। আমি কীভাবে অগ্নিকাণ্ড প্রতিরোধ করতে পারি?

শব্দভাণ্ডার

বৈচিত্র্য	বিভিন্নতা
অনাবৃষ্টি	অপর্যাপ্ত বৃষ্টি
কৃষিক্ষেত্র	যেখানে কৃষিপণ্য উৎপাদন করা হয়
পরিবহণ	একস্থান থেকে অন্যস্থানে পণ্য আনা-নেয়া
সংরক্ষণ	রক্ষা ও পালন
জলজ	যা জলে জন্মে
সম্প্রীতি	মিলেমিশে চলার মতো আচরণ
সহপাঠী	একই শ্রেণিতে পাঠরত শিক্ষার্থী
পর্ববেক্ষণ	খুঁটিয়ে খুঁটিয়ে দেখা
কেসস্টাডি	কোনো ঘটনার বিবরণ
অধিকার	মানুষ হিসেবে যা আমাদের প্রাপ্য
বেরিবেরি	এক ধরনের রোগ
সংযোজন	যুক্ত করা
তথ্য	আসল ঘটনা বা অবস্থা
রাষ্ট্রভাষা	কোনো দেশের সংবিধান স্বীকৃত ভাষা
আন্তর্জাতিক	সকল জাতি বা রাষ্ট্রের মধ্যে প্রচলিত
মালভূমি	চারপাশে খাড়া ঢালযুক্ত বিস্তীর্ণ ভূমি
ভূমিকান্তিনয়	অভিনয়ের মাধ্যমে কোনো চরিত্রকে ফুটিয়ে তোলা
মুক্তিবাহিনী	দেশের মুক্তির জন্য ১৯৭১ সালে সাধারণ মানুষ ও সামরিক বাহিনীর সমন্বয়ে গঠিত বাহিনী যারা মুক্তিযুদ্ধে অংশগ্রহণ করেছিলেন
রাজাকার	১৯৭১ সালে মুক্তিযুদ্ধের বিরোধী ও যুদ্ধরত পাকিস্তানি সামরিক বাহিনীকে সহায়তাকারী
আলবদর	১৯৭১ সালে মুক্তিযুদ্ধের বিরোধী, সন্ত্রাস সৃষ্টিকারী এবং বুদ্ধিজীবী ও রাজনৈতিক হত্যাকাণ্ড পরিচালনাকারী
নাগরিক	একটি নির্দিষ্ট দেশে বসবাসকারী ব্যক্তি
প্রবীণ	বৃদ্ধ
সুরক্ষা	সবরকম বিপদ-আপদ থেকে মুক্ত রাখা
হেল্পডেস্ক	যেখান থেকে সহায়তা পাওয়া যায়
হেল্পলাইন	যার মাধ্যমে ফোন করে জরুরি সেবা পাওয়া যায়
অবস্থাপন্ন	সচল
পথ্য	রোগীর জন্য উপযুক্ত খাবার
সঞ্চয়ী	যে সঞ্চয় করে
অগ্নিনির্বাপন	আগুন নিভানো
আশ্রয়কেন্দ্র	প্রাকৃতিক দুর্যোগে যেখানে মানুষ আশ্রয় নেয়
আবহাওয়া	কোনো স্থানের স্বল্প সময়ের গড় তাপমাত্রা ও বৃষ্টিপাত
অর্থকরী ফসল	যেসব কৃষিপণ্য রপ্তানি করে বৈদেশিক মুদ্রা অর্জন করা হয়
রপ্তানি	বিত্তির জন্য পণ্য বিদেশে প্রেরণ

সমাপ্ত

২০২৫ শিক্ষাবর্ষের জন্য, তৃতীয় শ্রেণি-বাংলাদেশ ও বিশ্বপরিচয়

মূর্খ বন্ধুর চেয়ে শিক্ষিত শত্রু ভালো।



জাতীয় শিক্ষাক্রম ও পাঠ্যপুস্তক বোর্ড, বাংলাদেশ

গণপ্রজাতন্ত্রী বাংলাদেশ সরকার কর্তৃক বিনামূল্যে বিতরণের জন্য